

准考证号

2019 年 11 月四川省公务员录用考试
《行政职业能力测验》试卷

姓名

华图四川公务员考试研究院 审定

说 明

本测验共有五个部分,100 道题,总时限为 120 分钟。各部分不分别计时,但都给出了参考时限,供你参考以分配时间。

请在题本、答题卡上严格按照要求填写好自己的姓名,填涂准考证号。

请仔细阅读以下注意事项:

1. 题目应在答题卡上作答,在题本上作答的一律无效。
2. 监考人员宣布考试开始时,你才可以开始答题。
3. 监考老师宣布考试结束时,你应立即停止作答,将题本、答题卡和草稿纸都翻过来留在桌上,待监考老师确认数量无误、允许离开后,方可离开。
4. 在这项测验中,可能有一些试题较难,因此你不要在一道题上思考时间太久,遇到不会答的题目,可先跳过去,如果有时间再去思考;否则,你可能没有时间完成后面的题目。
5. 试题答错不倒扣分。
6. 特别提醒你注意,填涂答案时一定要认准题号。
7. 严禁折叠答题卡!

**停! 请不要往下翻! 听候监考老师的指示;
否则,会影响你的成绩。**

* 本试卷所选真题,均来源于网络或根据考生回忆整理。

3. 关于脱贫攻坚,下列说法错误的是()。
- A. 精准脱贫与防范化解重大风险、污染防治是决胜全面建成小康社会的三大攻坚战
 - B. 发展产业是实现脱贫的根本之策,要因地制宜,把培育产业作为推动脱贫攻坚的根本出路
 - C. 脱贫攻坚的目标任务是实现贫困地区农民人均可支配收入增长幅度和基本公共服务主要领域指标均接近全国平均水平
 - D. 稳定实现贫困人口“两不愁三保障”,即不愁吃不愁穿,义务教育、基本医疗、住房安全有保障是脱贫攻坚的标准之一
4. 2018年3月11日,第十三届全国人民代表大会第一次会议审议通过了《中华人民共和国宪法修正案》。关于这次修宪,下列说法正确的是()。
- A. 将“健全社会主义法制”写入了《宪法》序言
 - B. 将坚持“五项原则”修改为坚持“和平发展道路”
 - C. 增加了“中国共产党领导是中国特色社会主义最本质的特征”
 - D. 删除了“国家工作人员就职时应当依照法律规定公开进行宪法宣誓”
5. 下列民族自治地方自治机关的行为,不符合现有的民族政策和相关法律法规的是()。
- A. 结合本地实际,对婚姻法作出变通规定
 - B. 经国务院批准,可以开辟对外贸易口岸
 - C. 决定本地方各级各类学校的教学内容和招生办法
 - D. 在民族乡设立人民政府作为民族自治地方的自治机关
6. 关于劳动法对女职工的保护,下列说法错误的是()。
- A. 用人单位可因女职工怀孕降低其工资
 - B. 用人单位不得因女职工哺乳解除劳动合同
 - C. 用人单位不得安排女职工从事矿山井下作业
 - D. 怀孕女职工在劳动时间内的产前检查也计入劳动时间
7. 关于我国平原,下列说法错误的是()。
- A. 江汉平原是我国粮食商品率最高的商品粮生产基地
 - B. 东北平原以肥沃的黑土著称,是我国面积最大的平原
 - C. 河套平原是河流泥沙在低洼处不断沉积形成的冲积平原
 - D. 成都平原有为该地农业发展做出巨大贡献的著名水利工程
8. 下列与艺术有关的说法,错误的是()。
- A. 马踏飞燕是中国汉代的青铜艺术品
 - B. 琢、磨是古代玉石加工的技术手段
 - C. 达·芬奇创作了西斯廷教堂的壁画《创世纪》
 - D. 人民英雄纪念碑上有“五卅运动”为主题的浮雕
9. 关于古城,下列说法错误的是()。
- A. 丽江古城位于洱海盆地
 - B. 阆中古城是古代巴蜀的军事重地

- C. 徽州古城具有“城套城”的建筑风格
D. 平遥古城的民居建筑呈现左右对称的特点
10. 以下经典电影反映了我国不同少数民族的文化和生活,下列对应错误的是()。
- A. 《刘三姐》——壮族
B. 《阿诗玛》——彝族
C. 《五朵金花》——白族
D. 《冰山上的来客》——满族
11. 关于国际足联世界杯,下列说法正确的是()。
- A. 奖杯名字是“德劳内杯”
B. 巴西是夺冠次数最多的国家
C. 职业足球俱乐部有参赛权利
D. 每届共有 36 支球队进入决赛圈
12. 下列与狂犬疫苗有关的说法,正确的是()。
- A. 被犬咬伤后共需接种 2 次疫苗
B. 被仓鼠咬伤也需要注射狂犬疫苗
C. 注射疫苗后又被狗咬伤无需再次注射
D. 被接种过狂犬疫苗的犬咬伤的人无需注射狂犬疫苗
13. 中药药材的药性有寒凉和温热之分,下列中药属于热性药的是()。
- A. 鹿茸
B. 黄连
C. 连翘
D. 柴胡
14. 下列选项能够描述图中物理现象的是()。



- A. 离朱之明,察箴末于百步之外,不能见渊中之鱼
B. 阳隧是以火珠向日下,以艾于下承之,便得火也
C. 鉴,鉴者近,则所鉴大,景亦大;其远,所鉴小,景亦小
D. 若鸢飞空中,其影随鸢而移;或中间为窗隙所束则影与鸢遂相违,鸢东则影西,鸢西则影东
15. 关于日用品,下列说法错误的是()。
- A. 甘油是化妆品中常用的一种保湿剂
B. 涂料中的铅挥发后可通过呼吸道危害人体健康
C. 加酶型洗衣粉可分解衣物上的汗渍、奶渍和血污
D. 空气清新剂能净化空气,但不能杀灭空气中的细菌

※ ※ ※ 第一部分结束,请继续做第二部分! ※ ※ ※

- A. 趋势 替代性
B. 必然 竞争性
C. 方向 优越性
D. 途径 倾向性

21. 信息爆炸式增长并不代表科学素养会提高,相反,人们在信息海洋中披沙拣金、澄清谬误的_____在增加。此外,科学传播的通俗程度不够。这些情况的存在,_____着未来应做好科学普及与传播工作,进而提升公众科学素养,需要建立一套以人民为中心,政府推动、全社会参与的工作机制。

依次填入画横线部分最恰当的一项是()。

- A. 成本 提醒
B. 风险 警示
C. 困难 表明
D. 障碍 标志

22. 我们喜欢向他人分享目标,好像寻求某种认可和鼓励。然而分享会给人一种_____的满足感,将空谈错认为_____。记下你的目标,制定可行计划,才更可能成功。

依次填入画横线部分最恰当的一项是()。

- A. 想象 目的
B. 即时 结果
C. 暂时 事实
D. 虚假 实践

23. 儒家贤能政治从人性本善出发,试图以人格“修齐”的方式实现道德政治,但往往因人性的善变而_____;而民主政治以人性本恶为立论前提,特别强调权力来源的正当性、权力行使过程的外部制约性,将法度、制度嵌于个人道德与合理的政治之间,这就使得政治运行及其结果成为一件可以_____的事情。

依次填入画横线部分最恰当的一项是()。

- A. 功败垂成 监督
B. 力所不及 把控
C. 不可端倪 预判
D. 难以名状 干预

24. 网络文学经过 20 年的快速发展,已收获丰富的作品、巨大的经济效益和来自各方的关注。但在爆发式增长的同时,有关其价值及合理性的质疑也_____。纵观网络文学整体,虽然不乏_____的佳作,但与庞大基数相比,精品数量依旧偏少。

依次填入画横线部分最恰当的一项是()。

- A. 接踵而至 琳琅满目
B. 甚嚣尘上 雅俗共赏
C. 如影随形 耳目一新
D. 不绝于耳 风靡一时

25. 最早对莫高窟进行保护的前辈们,大都是从事绘画、雕塑方面的艺术家,而非文物保护专家。面对破败凋敝的石窟、岌岌可危的壁画,他们意识到保护文物是_____的任务。当时国内还没有形成_____的保护理念,而常书鸿等艺术家们从一开始就确立了原状保护的原则,这与西方的文物保护理念_____,之后的修缮工作都是在这一原则的指导下进行的。

依次填入画横线部分最恰当的一项是()。

- A. 迫在眉睫 明晰 别无二致
B. 刻不容缓 先进 殊途同归
C. 举足轻重 系统 如出一辙
D. 首当其冲 成熟 不谋而合

26. “简”是一种艺术风格,也是唐宋以来我国艺术(尤其是传统绘画)的一大审美

追求。某位当代著名画家在谈到中西绘画艺术异同时曾说：“西洋画是加法，中国画是减法。”这与中西方民族文化的思维方式、思想积淀的差异有着很深的联系。“减法”之喻，颇为巧妙地点出了传统中国画在意象经营和意境创构上追求“简”的审美个性。在古代艺术家看来，“画以简贵为尚”。究其渊源，这种以“简”为贵的思想，在构成我国传统文化之骨干的禅、道、儒三家学说里已昭然可见。

文章接下来最可能讲的是()。

- A. 唐宋时期绘画的主要艺术风格
- B. 中国传统绘画在意境创构上的特点
- C. 中西方绘画艺术风格和审美追求的差异
- D. 传统文化对中国艺术尚“简”精神的影响

27. 国内创意产业园、主题乐园热衷于引进海外项目，或是复制国外的文化形象，看似是文化上的兼容并包，实则反映了民族文化自信的匮乏。各地对民族文化形象及其产品转换缺乏兴趣，是个值得深思的问题。表面上看，原因在于商家对于经济效益的追求，他们试图以异域文化形象刺激大众。实质上，商家的选择基于这样一个令人尴尬的事实：中国传统文化形象尚未找到同时获得大众和市场认可的表达形式。

这段文字意在强调()。

- A. 传统文化是国内文化产业繁荣发展的基础
- B. 中国传统文化形象的价值亟待挖掘和开发
- C. 国内主题乐园中的中西文化冲突一触即发
- D. 国内创意产业园的建设普遍缺乏文化自信

28. 尽管书籍史已日渐成为历史研究中为人关注的焦点，然而，若想通过现存的史料回答一些基本问题，仍然会有“更隔蓬山一万重”的无从入手之感，这种无奈感来自现存材料的特质。比如，在讨论清代江南书店针对普通读者的售书情况时，无论是各类清代遗留的刊本、抄本、精校本，还是清代文人和收藏家编写的各类书目，都是经过筛选的二道材料——它们或许能展示出清代出版业在某些领域所达到的极致，抑或能展现某些文人学者的个人偏好，但却不能说明当时一般的出版状态，更不用说从中窥探当时思想学术变动的走势。

这段文字意在说明()。

- A. 原始史料缺失制约清代书籍史研究
- B. 历史研究者应始终保持客观的立场
- C. 一手资料在书籍史研究中有重要价值
- D. 书籍史研究需对史料进行充分地挖掘

29. 产学研合作一直是我国科技体制改革的核心议题之一。政府在涉及国家安全等重大技术领域内推动产学研合作责无旁贷，然而，在很多情况下产学研合作完全可以由社会力量组织完成。科技类社会组织既不属于层级制管理下的政府，又不是追逐利润的企业，这使得它能够专注于反映创新主体的诉求，形成区域创新体系内信息反馈的节点和网络，可以填补产学研资源供给

方和需求方面的信息鸿沟,以一种更加灵活有效的方式协调各方利益,促进合作达成。因此,除了把产学研合作的动力留给市场之外,“留给社会”也是解决产学研合作动力问题的一种方式。

这段文字意在说明()。

- A. 产学研合作动力不足源于社会力量参与度不够
- B. 应鼓励科技类社会组织参与到产学研合作中来
- C. 如何在科技体制改革的核心议题上获得新的突破
- D. 应发挥社会组织在解决产学研合作动力中的作用

30. 城市的发展离不开对土地的利用,但土地开发不等于一切推倒重来。一座城市拥有历史传统与文化底蕴,才能称得上名城。与其在历史文物消失之后重建或新修,不如对现有文物加以保护利用。在城市建设过程中,应充分考虑对历史文物的保护。对那些未列入保护名录的文物,也要充分认识到它们的现实价值与历史价值。在系统设计和规划中,可以将这些文物融入规划建设体系,使之成为有教育意义的人文景观。

这文字意在说明()。

- A. 应将历史文物保护纳入城市规划建设体系中
- B. 城市的系统设计和规划应着眼于大局和长远
- C. 应充分挖掘未列入保护名录的文物的历史价值
- D. 文物保护与土地利用之间的矛盾亟需妥善解决

31. 研究表明,语言不仅仅是人们用以交际的工具,也不仅仅是相关文化的载体,还是人类社会的认同源泉和认知机制,是文化的生命。语言一旦失落,文化即无法继续生存和发展。一如语言,不同文化之间的相互接触,促使不同文化共同发展繁荣,它们之间相互改造相安共存。所以,多元文化格局是人类社会持续发展所依赖的良性文化生态。语言不断灭亡,文化生态便不断遭受破坏。诚如一位学者所言:如果有一天生活在地球上的人们只说一种语言的话,那么,这个世界就走到了尽头。

这段文字意在强调()。

- A. 人类社会的形成与发展依赖于语言的产生
- B. 语言生态状况对文化生态状况有重要影响
- C. 语言多样化对社会持续发展具有重要意义
- D. 语言的民族性依赖于世界文化的多元格局

32. 现在很多人形成了一种习惯,要找什么问题、线索、资料,不假思索就去打开搜索引擎。可是网上的信息往往真假参半,怎么能不加考辨就当作研究的依据呢?再说,这种只有结果、没有过程的行为,并不助于思考力的提升,反而可能形成“偷”的惯性。人们理解某种事物,往往需要逐步去了解和熟悉,这过程可能有许多感性的认知,是重要的积累。如果过多依赖网上的结论,容易形成碎片式、拼贴式思维。

这段文字意在说明()。

- A. 碎片化思维不利于人们感性认知的形成

- B. 人们应增强对互联网海量信息的辨识能力
- C. 过于依赖互联网会阻碍人思考的深度和广度
- D. 互联网深刻改变了人们理解事物的方式和途径

33. 企业、媒体等出于利益考量,传递出一些物质主义的消费理念,使部分人过分追求消费水平的提升,忽视了对自身债务负担及环境资源保护的重视,这类现象应当引起关注。一方面,我们处于经济转型期,国家呼吁刺激消费拉动内需,人们随着生活水平的提高也有消费升级的需求;但另一方面,传统文化推崇节俭节约,反对物欲横流。事实上,国家鼓励消费并不是鼓励浪费,也是希望在改善人民物质生活水平与环境资源可持续利用之间实现平衡,引导居民把握收入水平与消费水平之间的平衡。

这段文字针对的主要问题是()。

- A. 过度消费对环境的破坏
 - B. 消费者的盲目消费倾向
 - C. 商家对消费理念的误导
 - D. 传统的节俭观念被淡忘
34. 在许多“80后”的童年、少年记忆中,漫画还是一摞摞的杂志和成套的画册,从电脑、手机上看网络漫画,已是成年后的事情了。但这却是“90后”“00后”们漫画阅读的起始阶段。随着数字网络技术的发展,“互联网+漫画”改变和颠覆了原来的产业格局。网络的优势吸引了大量漫画作者通过网络平台展示自己的作品。从电脑端的漫画网站、博客、论坛,到移动端的微博、微信,许多漫画作者以网络为载体,吸引了众多粉丝,创造出许多知名漫画形象。

这段文字主要介绍()。

- A. 互联网对漫画传播方式的影响
 - B. 不同年代接触漫画的不同途径
 - C. 网络对漫画作者与读者的吸引力
 - D. 数字技术对读者阅读习惯的改变
35. 哲学思维是一种高度抽象化和理性化的思维。哲学思维的这种特点并不表明哲学与生活无关,也不表明它所讨论的只能是一些纯粹思辨的、冷冰冰的问题。其实,哲学的抽象性主要是指论证方式,而非哲学问题。哲学中的问题来自生活和科学,都是确实且普遍存在的。当这些问题上升为哲学问题时,就抽象化了,因为哲学是以普遍性的概念和范畴形式来表述和论证这些问题的。如存在和意识的相互关系、必然性和偶然性的问题等,这些问题在没有上升为哲学问题前,都以具体问题的形式出现。可以说,所有哲学问题在生活和科学中都有类似的特点。

这段文字主要说明()。

- A. 哲学思维的思辨性特点
 - B. 哲学与现实生活的关系
 - C. 哲学研究问题的普遍性
 - D. 哲学论证方式的抽象性
36. 土地流转有助于调动农民务农投入的积极性,提高农业综合生产能力,促进农业增效和农民增收。近年来,我国农村土地承包经营权流转明显加快,但我们似乎忽略了一个问题,那就是劳动生产率和土地产出率并非完全正相关。规模经营主体或大户的劳动生产率相对较高是事实,但他们在耕种大面

积土地时,很难像小户一样实现精耕细作,很可能出现土地产出率降低和经营亏损。因此,土地流转规模就不该是越大越好,而是要有个度。如果缺少度的把握而任由土地大面积流转,经营规模是变得可观了,单产却没像预期那样增加,这种流转还有什么意义呢?

这段文字意在说明()。

- A. 土地的流转规模应保证粮食单产不断增长
- B. 对土地流转的规模效应目前存在认识误区
- C. 土地流转应引导形成合理的土地经营规模
- D. 土地流转面积速度过快规模过大弊大于利

37. 文化产业是当今世界经济增长的重要动力,是一个国家文化竞争力的重要基础。当前,推动文化产业发展,需要突出“融合”这个关键词,从供给侧看,_____,与多个产业存在天然的耦合关系,具有与其他产业融合发展的良好基础和广阔空间。通过突破产业边界、重组产业要素而融合形成的文化产业新业态,往往具有更高的附加值、具备更强的市场竞争力。

填入文中画横线部分最恰当的一句是()。

- A. 文化产业融合的节奏快、势头猛
- B. 文化产业是一个渗透性、关联性很强的产业
- C. 文化产业是文化、经济、技术等相互融合的产物
- D. 文化产业在世界产业融合发展潮流中扮演了先锋角色

38. _____。正如游戏要求团队协作,真正让一款游戏成为广受追捧且健康向上的产品,也需要协同的力量。如果开发团队只考虑市场效益,对游戏内容和形式放任自流,纵使在短时间内能取得佳绩,也会因过度消费用户而败下阵来。如果政府部门只在一些节点上把一把、管一管,纵使出台了一些政策文件,也不过是形式大于效力。如果家长对孩子不管不问或一封到底,纵使气急败坏也无济于事,与其关上游戏的门还不如打开疏导陪伴的窗。

填入文中画横线部分最恰当的一句是()。

- A. 国产游戏行业的有序发展需要多方的共同努力
- B. 游戏监管不该只堵不疏而应树立“大监管”理念
- C. 各方力量紧密合作才能让游戏成为生活的有益补充
- D. 游戏监管需制作方、政府部门、家长三方形成合力

39. 截至2016年底,中国高铁运营里程突破2.2万公里,是世界上高铁运输网络最健全、最完善、运输规模最大的国家。这五年,中国“四纵四横”高铁主骨架基本建成,中西部高铁从无到有,实现了中国高铁由“线”到“网”的飞跃,极大地缩短了区域之间的时空距离,让诸多以“小时计”的“交通圈”从梦想照进现实。高效联通的高铁网络犹如一座座外引内联的天桥,发挥出强大的“虹吸效应”,成为双城生活的“融合剂”、结构优化的“助推器”,带动了高铁沿线人员流动、资源开发、经济发展,成为名符其实的国民经济大动脉。

下列哪项最适合做这段文字的标题()。

- A. 中国高铁进入规模化运营新时代

- B. 高铁沿线省市经济正在快速崛起
- C. 高铁:拉动经济社会发展的新动力
- D. 高铁:提升百姓荣誉感的“中国创造”

40. 通过文献解读以往的历史,对于现代人,早已是司空见惯的做法。然而这样往往带有很大的偏颇。文字材料可能具有欺骗性。看似真实的记载,可能已经掺杂进了个人或族群的看法,导致这些史料在很大程度上失真。自古以来,人类在表达自己的忧虑与渴望时,使用的载体不仅仅是文字,也包括物品,因此,若想不偏不倚地讲述整个人类的故事,必须充分发挥文物的力量。最适合做这段文字标题的是()。

- A. 探寻文物背后的故事
- B. 文物怎样才能“活起来”
- C. 警惕“不可靠”的文字记录
- D. 文物:客观的历史记录者

41. 伴随着消费市场的风云变幻,曾经被电商冲击得落花流水的实体商家大有“重整河山再出发”的意思。时至今日,网络开店的成本早已没有绝对优势,与之相伴的却是获取流量的难度越来越大。因为消费的欲望需要不断被刺激,而人们对电商的便捷、便宜、丰富已经司空见惯。在近年全新的经营理念中,实体店并不单纯局限于一个买卖空间,而是体验与关系的集合。毕竟人不可能永远活在虚拟世界,依靠浏览美好的图片抚慰心灵,线下细致入微的感觉和带来的愉悦是电商无法满足和替代的。这段文字接下来最可能讲的是()。

- A. 体现全新理念的实体商业案例
- B. 不同消费渠道的统计数据变化
- C. 消费市场不断分化的发展趋势
- D. 线下购物不可替代的理论依据

42. ①1999年科索沃战争中,北约和南联盟在网络空间展开攻防战,标志着军事实践向虚拟空间更进一步

②从世界最近几次局部战争的实践不难看出,自然空间在军事实践中起到基础性作用,而虚拟空间的先导性则越来越强

③电磁和互联网技术的军事应用,使得虚拟空间出现了电磁战、网络战、信息战等战争新形态

④1904年,日俄双方在战争中使用无线电进行联络、侦听和干扰,这是人类军事实践第一次进入电磁虚拟空间

⑤因此,当代军事战略理论更加重视虚拟空间的研究,以及其与自然空间相互关系的研究

⑥军事实践不再单纯依托山河湖泊等自然空间,特别是进入21世纪以来,虚拟化进程愈加明显

将以上6个句子重新排列,语序正确的是()。

- A. ②④①⑤⑥③
- B. ①④③⑥⑤②
- C. ⑥②①③⑤④
- D. ④①⑥③②⑤

43. ①随着中国发展进入新时代,我们不应再以高速公路的运营里程长短等数量指标为标杆,而更应注重高速公路的管理服务水平、运营效率和智能化程度等质量指标

- ②可以预见,如果实现这一目标,并善用由此产生的海量汽车与公路流量大数据,必将产生巨大的新产业机遇与发展动能
- ③取消高速公路省界收费站,不仅需要“大破”,还需要“大立”
- ④放眼世界,高速公路无人化、智能化是发展趋势
- ⑤让高速公路人工收费转变为无人收费的便利化措施,成为中国汽车物联网和下一代智能高速公路走入应用场景的突破口
- ⑥应以取消省际收费站为突破口,加快 ETC 乃至汽车智能感应系统普及化,加快对所有已建高速公路和新建高速公路的信息化和智能化升级
- 将以上 6 个句子重新排列,语序正确的是()。

- A. ④①③②⑤⑥
B. ③④①⑥⑤②
C. ①⑥③④②⑤
D. ⑤⑥③②①④

44. 对于传统文化,我们过去经历过一个否定的过程,将其置于流行文化的反面,但从来没有“无根”的流行文化。所谓流行文化,也不过是在对现代流行元素和传统文化的结合与扬弃基础之上所形成的,特别是在传播技术日新月异的今天,传统文化与流行文化的界限,已经越来越模糊。需要厘清的一点是,传统文化在今天所遭遇的压力,并不是文化本身的危机,而主要是传播形式上的困境。立足这一点,创新传统文化的传播形式,将之与流行文化元素和新技术相嫁接,就成为当下发展、弘扬和传播传统文化的一个重要突破口。这段文字意在说明()。

- A. 流行文化要植根于传统文化
B. 传统文化需要创新传播模式
C. 传统文化与流行文化相辅相成
D. 新技术模糊了传统与流行的界限

45. 科学精神之所以能在欧洲率先确立起来,得益于科学精神的扩散与传播在两个方面所取得的显著成就。首先,在社会生活层面,科学精神助推了欧洲工业革命的发生,由此带来整个社会生活福祉的提升,以显性方式证明了科学精神具有的强大生产性功能;其次,在观念层面,科学精神所暗合的批判性特质加快了以现代性为主旨的新思想范式出场的步伐,在真理面前没有人具有豁免权迅速成为一种共识,为此整个社会呈现出进步与文明的勃勃生机。这段文字主要介绍的是()。

- A. 欧洲工业革命的精神根源
B. 生产关系变革的哲学原理
C. 科学精神先天的批判性特质
D. 科学精神在欧洲确立的原因

※ ※ ※ 第二部分结束,请继续做第三部分! ※ ※ ※

第三部分 数量关系

(共 10 题, 参考时限 15 分钟)

在这部分试题中, 每道试题呈现一段表述数字关系的文字, 要求你迅速、准确地计算出答案。

请开始答题:

46. 某单位乒乓球, 羽毛球, 篮球三个兴趣小组共有 72 人参加。已知同时参加 3 个小组的人数为 0, 只参加羽毛球小组的人数是只参加乒乓球小组人数的 4 倍, 只参加篮球小组的有 11 人, 同时参加两个小组的人数与只参加 1 个小组的人数相同, 参加乒乓球小组但未参加篮球小组的人中有一半参加羽毛球小组, 问参加包括篮球在内的两个小组的有()。

- A. 32 人
B. 31 人
C. 25 人
D. 24 人

47. 某知识竞赛共 50 道单项选择题, 小李和小王各自从中随机选择 48 道题作答, 问他们未选择的两道题相同的概率是()。

- A. $\frac{1}{25} \times \frac{1}{49}$
B. $(\frac{1}{25} \times \frac{1}{49})^2$
C. $\frac{1}{50} \times \frac{1}{49}$
D. $(\frac{1}{50} \times \frac{1}{49})^2$

48. 如图, 沙漏计时器由上下两个大小相同相互连通且底面互相平行的圆锥组成, 下面的圆锥内装有细沙, 计时开始时, 将沙漏倒置, 已知上面圆锥中细沙全部流下恰好需要 1 小时, 则细沙高度下降一半所需的时间是()。



- A. 30 分钟
B. 45 分钟
C. 47.5 分钟
D. 52.5 分钟

49. 甲地有一批 100 吨的装修材料需运到乙地, 大卡车载重量为 13 吨, 小货车载重量为 5 吨, 大卡车一次运费为 1000 元, 小货车一次运费为 500 元, 如要求所有货车正好装满整数车, 则运费最低为多少元? ()

- A. 8500
B. 9000
C. 9500
D. 10000

50. AB 两点间有一条直线跑道, 甲从 A 点出发, 乙从 B 点出发, 两人同时开始匀速在两点之间往返跑步。第 1 次迎面相遇时离 A 点 1000 米, 第三次迎面相遇时离 B 点 200 米, 此时甲到达 B 点 2 次, 乙到达 A 点 1 次, 问 AB 两点间跑道的长度是多少米? ()

- A. 1400
B. 1500

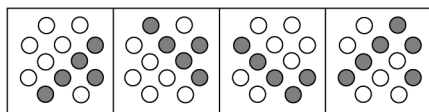
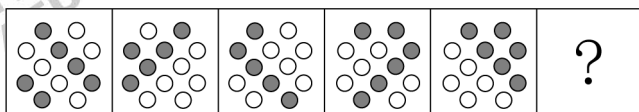
第四部分 判断推理

(共 30 题, 参考时限 35 分钟)

一、图形推理。请按每道题的答题要求作答。

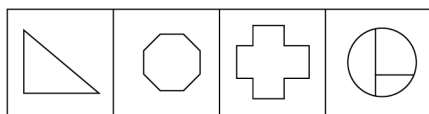
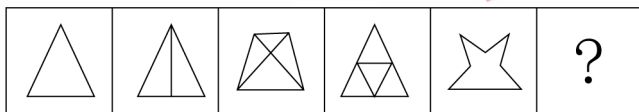
请开始答题:

56. 从所给的四个选项中, 选择最合适的一个填入问号处, 使之呈现一定的规律性:



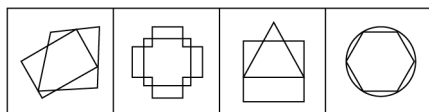
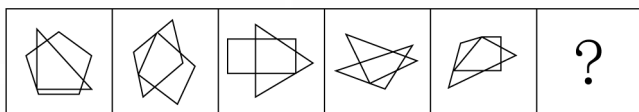
A B C D

57. 从所给的四个选项中, 选择最合适的一个填入问号处, 使之呈现一定的规律性:



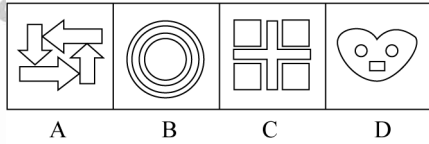

A B C D

58. 从所给的四个选项中, 选择最合适的一个填入问号处, 使之呈现一定的规律性:

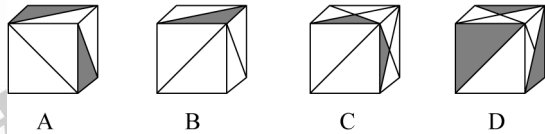
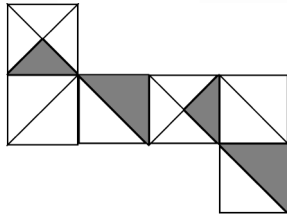


A B C D

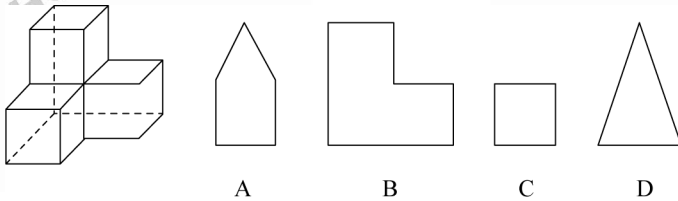
59. 从所给的四个选项中, 选择最合适的一个填入问号处, 使之呈现一定的规律性:



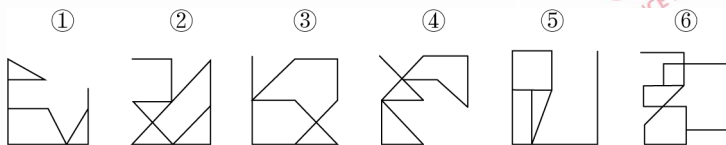
60. 下面四个所给的选项中,哪一选项的盒子不能由平面图形折成? ()



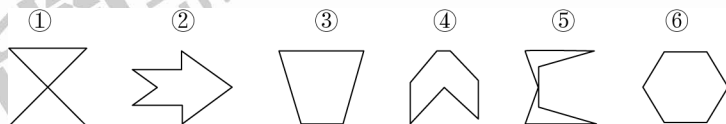
61. 给定的是由 4 个相同正方体组合成的立体图形,将其从任一面剖开,下面哪一项不可能是该立体图形的截面? ()



62. 把下面的六个图形分为两类,使每一类图形都有各自的共同特征或规律,分类正确的一项是()。



63. 把下面的六个图形分为两类,使每一类图形都有各自的共同特征或规律,分类正确的一项是()。



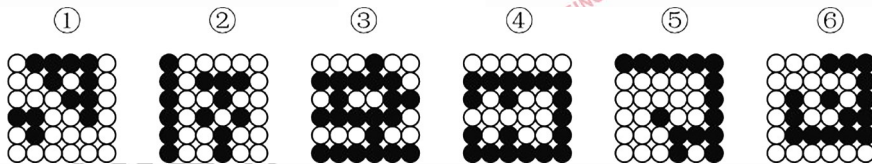
A. ①②③,④⑤⑥

B. ①③⑤,②④⑥

C. ①⑤⑥,②③④

D. ①④⑥,②③⑤

64. 把下面的六个图形分为两类,使每一类图形都有各自的共同特征或规律,分类正确的一项是()。



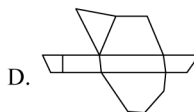
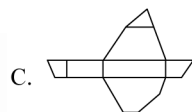
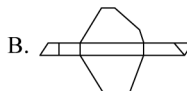
A. ①②④,③⑤⑥

B. ①③⑤,②④⑥

C. ①②⑥,③④⑤

D. ①④⑥,②③⑤

65. 下图是立体图形,下列哪个选项可以折叠成该立体图形?()



二、定义判断。每道题先给出定义,然后列出四种情况,要求你严格依据定义,从中选出一个最符合或最不符合该定义的答案。注意:假设这个定义是正确的,不容置疑的。

请开始答题:

66. 防御机制是心灵对内外压力和情绪冲突做出无意识和自动化反应的方式。它们限制了一个人对焦虑、抑郁或嫉妒等负面情绪的觉察,以解决内在的情绪冲突。替代是一种防御机制,是个体把无法对某人或物发泄的精力转移到另一个人或物上的过程。

根据上述定义,下列属于替代的是()。

A. 王先生早上没时间吃饭,于是中午把早午饭一起吃了

B. 小张在单位受了老板的气,回家后把怒气转嫁到了孩子身上

C. 小冰想吃冰激凌,但妈妈不让吃凉的,小冰只好买了很多糖果

D. 小周很喜欢一位男同事,却经常跟别的同事讨论该男同事的缺点

67. 环境教育是以人类与环境的关系为核心,以解决环境问题和实现可持续发展为目的,以提高人们的环境意识和有效参与能力、普及环境保护知识与技能。以培养环境保护人才为任务,以教育为手段而展开的一种社会实践活动。

根据上述定义,下列教学内容最符合环境教育的是()。

A. 倡导遵守保护环境的行为规范

- B. 讲授与环境有关的自然科学知识
C. 讲授改造自然环境的理论与方法
D. 提倡从环境中获取满足人类需求的资源
68. 幸存者偏差谬误是统计学中的一种谬误,它是指我们忽略了那些已经不可能向我们显示的数据,而仅仅根据能够向我们展现出的数据,从而得出某种错误结论的谬误。

根据上述定义,下列不属于幸存者偏差谬误的是()。

- A. 记者在高铁上调查乘客买票的情况后认为,买到车票非常容易
B. 小张看到大多数人给予某部电影好评,因此决定去看这部电影
C. 许多商业传奇的缔造者都是辍学后创业的,小李读了他们的传记,决定退学创业
D. 老王在朋友圈询问哪种钙片补钙效果好,老刘推荐了 A 钙片,于是他决定服用该种钙片
69. 顺从是指在他人的直接请求下按照他人要求做的倾向,即接受他人请求,使他人请求得到满足的行为,它是一种人与人之间发生相互影响的基本方式。

根据上述定义,下列属于顺从的是()。

- A. 非典爆发期间,人们争相购买板蓝根
B. 小军从军期间按照组织的安排去了西藏工作
C. 女友说想吃火锅,晓强带她去了最近的一家火锅店
D. 为了让妈妈安心上班,小菁主动提出要照顾生病的奶奶
70. 知觉选择性是指人在知觉过程中把知觉对象从背景中区分出来加以优先清晰反应的特性。其中被清晰知觉到的客体叫对象,未被清晰知觉到的客体叫背景。

根据上述定义,下列体现知觉的选择性的是()。

- A. 人们经常把画得不完整的三角形看成是完整的三角形
B. 在山下看,觉得城市很大;爬上山顶之后再看,觉得城市很小
C. 外国留学生经常把“拆除”写成“折陈”,把“银行”看成“很行”
D. 樵夫和猎人看同一张森林照片,樵夫看到很多树木,猎人则看到林间的猎物

三、类比推理。每道题先给出一组相关的词,要求你在备选答案中找出一组与之在逻辑关系上最为贴近、相似或匹配的词。

请开始答题:

71. 云梯 : 攻城
- A. 水稻 : 栽培
B. 商品 : 生产
C. 油灯 : 照明
D. 驿站 : 传信
72. 飞行员 : 飞机
- A. 教师 : 教室
B. 海军 : 大海

- C. 妻子：家庭
D. 皇帝：皇宫
73. 红颜：娥眉：女性
A. 襁褓：垂髫：幼儿
B. 花甲：耄耋：老人
C. 四海：八荒：天下
D. 婵娟：玉盘：月亮
74. 页面设置：页边距：文字方向
A. 插入图片：公式：页码
B. 字体设置：宋体：黑体
C. 邮件发送：附件：正文
D. 保存文档：硬盘：手机
75. () 对于 大厦 相当于 琵琶 对于 ()
A. 城堡；电吉它
B. 高楼；舞台
C. 工人；制琴师
D. 房间；琴弦

四、逻辑判断。每道题给出一段陈述，这段陈述被假设是正确的，不容置疑的。要求你根据这段陈述，选择一个答案。注意：正确的答案应与所给的陈述相符合，不需要任何附加说明即可以从陈述中直接推出。

请开始答题：

76. 某单位办公室共有 12 名工作人员。其中，有 3 名干部是博士，但并非所有的博士都是管理学专业毕业的，而所有女性工作人员都是管理学专业毕业的。由此可以推出()。
A. 有些女性不是干部
B. 有些博士不是女性
C. 有些女性不是博士
D. 有些干部不是管理学专业毕业的
77. 胎儿大脑发育需要一种重要的营养物质 $\omega-3$ 脂肪酸即二十二碳六烯酸(DHA)。有人建议，孕妇在孕期服用富含 DHA 的鱼油补充剂有利于胎儿的大脑发育。临床试验中，两组孕妇每日服用含有 800 毫克 DHA 的补充剂或安慰剂。两组孩子在 18 个月大时，其平均的认知，语言及运动评分之间没有差别。此后，研究人员对这些孩子在 4 岁时的表现进行了跟踪评估，大多数(91.9%)家庭参与了该研究。研究人员发现，对认知、从事复杂思维处理、语言及执行功能(如记忆、推理、解决问题)的检测结果显示在两组间没有显著差异。研究者认为，母亲妊娠期补充 DHA 不能使孩子更聪明。
以下哪项如果为真，最能驳斥研究者观点?()
A. 胎儿的 DHA 来自母亲的饮食，但母亲需要摄入的 DHA 的确切数量目前难以确定
B. DHA 补充剂可能降低早产的风险，也可能降低那些有家族过敏史的孩子用药过敏的风险
C. 7 岁才是能够预测智力的最早年龄，4 岁时各种因素对发育的影响尚未充分表现，不能可靠评估
D. 研究证明，孩子出生后补充 DHA 有益于认知能力发展，该国婴儿出生后

常规服用富含 DHA 的补充剂

78. 考古学家通过对消失已久的鸚鵡嘴龙进行体色重建,发现其腹部颜色为浅色而背部颜色较深,这是一种保护色,作用是通过在身体上形成阴影,让动物自身在其他动物眼中失去立体效果,因此也被称为反荫蔽体色,这在现代动物中也较为常见。据此分析,考古学家推测鸚鵡嘴龙最有可能居住在森林里。

要得到上述结论,最需要补充的前提条件是()。

- A. 生活在森林中的动物其体色模式大多为反荫蔽体色
- B. 恐龙包含许多种类,其中大部分都生活在森林和草原中
- C. 在一发现恐龙化石的地区,考古推测该区域曾有大片的森林
- D. 鸚鵡嘴龙是种小型恐龙,这种体色对于逃避天敌有天然的伪装作用

79. 某研究小组在 1984 年挑选了 10 万名身体健康的志愿者,在 2010 反馈调查中,超过 2.6 万名志愿者已经离世。研究小组发现,经常食用诸如麦片、糙米、玉米和藜麦等粗粮的志愿者生病和死亡比例比不食用者低,尤其是患血管疾病的比例更低。研究人员认为,食用粗粮有助于身体健康。

以下哪项如果为真,不能支持研究人员的结论?()

- A. 粗粮是运动员和减肥人士的最佳早餐
- B. 粗粮是世界上很多国家老百姓的主食
- C. 在很多医学典籍里,有食用粗粮治病的记载
- D. 经常食用粗粮有助于降低罹患肥胖症的风险

80. 老鼠在猫的左边,狗在老鼠右边,老鼠正上方有只黄鹌,狗的正上方有只喜鹊。

下列位置关系正确的是()。

- A. 狗的左边是猫
- B. 狗的右边是猫
- C. 黄鹌的右边是喜鹊
- D. 黄鹌的左边是喜鹊

81. 3 月 20 日,某网约车公司对北京三环内非京牌车辆停止派单,9 天后,该公司又在客户端上给司机发出了一则通知,宣布从 4 月 1 日起将在全北京范围内停止向非京牌车辆派单。这说明从 4 月 1 日起,北京市民将再次面临“叫车难”的问题。

以下哪项如果为真,最能削弱上述预测?()

- A. 停止向非京牌车辆派单能在一定程度上缓解交通拥堵
- B. 在北京运营的网约车中,外地牌照车辆大约占一半以上
- C. 该网约车公司表示,将会采取多种措施提升北京市民叫车的效率
- D. 很多“京人京牌”并且符合细则规定的网约车司机对未来充满了期待

82. 有一种观点认为,人体缺水是导致感冒的原因,反对者则认为,并非是缺水,受凉才是导致感冒的根本原因。

以下哪项如果为真,最能削弱反对者的观点?()

- A. 人体缺水之后,更容易受凉
- B. 感冒往往伴随着发烧,而发烧通常会导导致缺水、怕冷
- C. 即使没有受凉,人体缺水之后也会出现很多类似感冒的症状

D. 受凉之后,更容易导致人体缺水,抵抗力下降,从而引发感冒

83. 如果专利技术的宣传推广有足够的资金支持,那么专利技术的拥有者将更加关注其专利技术的宣传推广工作。专利技术宣传推广得越充分,其转化为专利产品、创造价值的可能性也就越大,整个社会的创新能力也将得到进一步提高。因此,如果国家增加专利技术宣传推广的补贴,那么将有力增强整个社会的创新能力。

以下哪项如果为真,最能支持上述论述? ()

- A. 有些专利技术转换为产品后所带来的收益尚不足以支付其宣传推广费用
B. 专利技术拥有者越关注宣传推广,其专利技术的宣传推广就可以做得越充分
C. 如果国家不增加专利技术宣传推广的补贴,那么将不能增强整个社会的创新能力
D. 如果专利技术拥有者不关注宣传推广工作,那么其专利技术就很难转化为专利产品
84. 甲、乙、丙都准备开始锻炼身体,他们可以选择徒步、跳绳和打乒乓球三种方式,已知:

- (1) 甲不喜欢徒步,如果有乙结伴,他就选择打乒乓球;
(2) 乙不在意方式,如果跳绳比徒步效果好,他就选择跳绳;
(3) 丙不在意距离,除非预报室外有雾霾,否则选择徒步;
(4) 乙、丙两家是邻居,如果休息时间一致,他们将结伴徒步。

如果要满足上述要求,则下列说法正确的是()。

- A. 如果甲和丙跳绳,则室外有雾霾
B. 如果三人都徒步,则徒步要比跳绳效果好
C. 如果三人都不徒步,则乙和丙的休息时间一定不一致
D. 如果乙没有选择徒步和跳绳,则他肯定选择和甲一起打乒乓球
85. 一项研究认为,发达国家近 20 年来治疗甲状腺肿瘤的病例增多主要是因为过度诊疗,研究人员认为,随着新型成像技术的出现,越来越微小的甲状腺肿瘤被检测出来,大部分过度治疗的方式是完全切除甲状腺,它通常还和其他一些有害处理手段相结合,比如完全切除脖子上的淋巴结或者实施放射疗法,而实际上这些肿瘤大部分是微型乳头状瘤,只需要密切监视,不必立即采取干预性治疗手段。

以下哪项如果为真,最能支持上述结论? ()

- A. 过度使用放射疗法会损害人体的免疫系统
B. 在发达国家,乳腺肿瘤也存在过度治疗的问题
C. 完全切除甲状腺并非是治疗所有甲状腺疾病的最佳方式
D. 在不存在过度诊疗的国家,甲状腺肿瘤的发病率及病死率并没有明显增高

※ ※ ※ 第四部分结束,请继续做第五部分! ※ ※ ※

二、根据以下资料,回答 91~95 题。

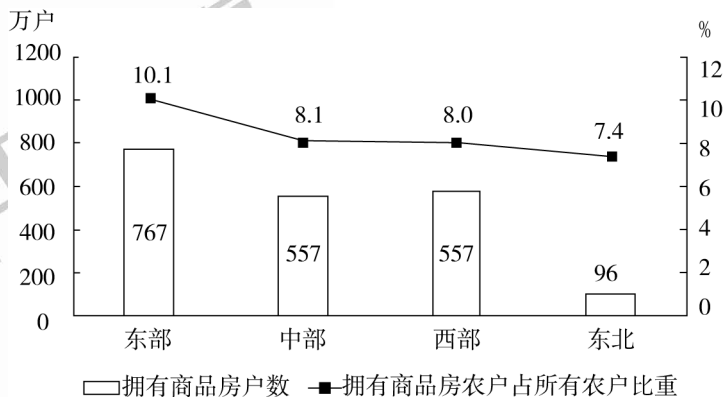
2016 年末,全国 23027 万农户中,99.5%的农户拥有自己的住房。其中,拥有 1 处住房的 20030 万户,占 87.0%;拥有 2 处住房的 2677 万户,占 11.6%;拥有 3 处及以上住房的 196 万户,占 0.9%;拥有商品房的 1997 万户,占 8.7%。

2016 年全国农户住房数量与住房结构构成

单位:%

		全国	东部	中部	西部	东北
拥有住房数量划分	拥有 1 处住房	87.0	82.7	87.9	89.5	93.9
	拥有 2 处住房	11.6	15.6	11.0	9.2	5.0
	拥有 3 处及以上住房	0.9	1.4	0.7	0.5	0.3
	没有住房	0.5	0.3	0.4	0.9	0.8
按住房结构划分	钢筋混凝土	12.5	15.7	13.5	9.5	5.3
	砖混	57.2	57.9	65.3	50.6	47.8
	砖(石)木	26.0	25.1	18.9	30.9	42.5
	竹草土坯	2.8	0.9	1.5	5.9	3.6
	其他	1.4	0.5	0.8	3.1	0.9

注:“按住房结构划分”统计的为农户当前居住的住房状况,没有住房的农户计入“其他”项中。



2016年末不同地区拥有商品房的农户状况

91. 将全国不同地区按照拥有 2 处及以上住房的农户占该地区农户总数比重从高到低的次序排列,以下正确的是()。

- A. 东部、西部、中部、东北
B. 东部、中部、西部、东北
C. 中部、东部、东北、西部
D. 中部、东北、东部、西部

92. 2016 年末,全国约有多少亿农户居住在钢筋混凝土和砖混结构房屋中?()

- A. 1.6
B. 1.7
C. 1.8
D. 1.9

93. 2016 年末,中部地区农户数约是东北地区的多少倍?()

- A. 4.3
B. 4.8
C. 5.3
D. 5.8

94. 2016 年末,拥有商品房的农户数量第二多的地区,居住在砖(石)木结构住房中的农户占该地区所有农户的比重在全国 4 个地区中排第几? ()
- A. 1
B. 2
C. 3
D. 4
95. 根据 2016 年末全国农户住房情况,能够从上述资料中推出的是()。
- A. 西部地区农户数量少于中部地区
B. 中部地区平均每 70 个农户中,就有 1 个以上拥有 3 处及以上住房
C. 东北地区仅拥有 1 处砖混结构住房的农户占当地农户总数的 4 成以上
D. 砖混住房和钢筋混凝土住房分别占该地区所有住房比重最高的地区是同一个

三、根据以下资料,回答 96~100 题。

2017 年全年,我国乘用车产量为 2483.1 万辆,同比增长 2.1%,销量为 2474.4 万辆,同比增长 1.9%。

2017 年 1 季度及 2018 年 1—2 月我国乘用车产销量及同比增速

单位:万辆,%

		2018 年 1—2 月		2017 年 1 季度	
		数量	增速	数量	增速
乘用车	产量	377.0	-3.8	610.7	7.2
	销量	393.2	2.1	594.7	5.1
其中:轿车	产量	174.9	-6.6	291.3	2.0
	销量	183.6	-0.7	284.0	0.8
多功能乘用车(MPV)	产量	29.3	-16.6	55.5	-15.9
	销量	30.0	-15.3	55.3	-17.4
运动型多用途乘用车(SUV)	产量	167.3	4.5	249.5	27.5
	销量	173.4	11.6	238.6	22.0
交叉型乘用车	产量	5.4	-41.9	14.5	-35.1
	销量	6.1	-34.7	16.9	-22.8

96. 2017 年 3 月我国多功能乘用车(MPV)的产量()。
- A. 不到 15 万辆
B. 在 15—18 万辆之间
C. 在 18—23 万辆之间
D. 多于 23 万辆
97. 已知 2018 年 3 月我国乘用车产量为 212 万辆,则 2018 年一季度我国乘用车产量比上年同期()。
- A. 上升了不到 5%
B. 上升了 5%以上
C. 下降了不到 5%
D. 下降了 5%以上
98. 2016 年第一季度我国运动型多用途乘用车(SUV)销量是多功能乘用车(MPV)销量的多少倍? ()

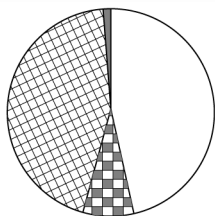
A. 1.8

B. 2.9

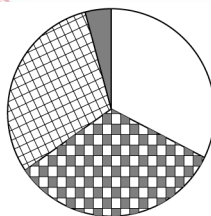
C. 4.2

D. 6.5

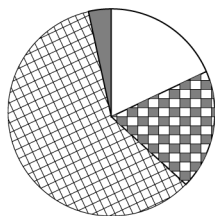
99. 以下饼图中,能准确反映 2018 年 1—2 月我国四种类型乘用车产量占总产量比重的是()。



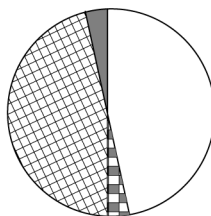
A.



B.



C.



D.

100. 关于 2017 年一季度我国乘用车产销量,能够从上述资料中推出的是()。

A. 轿车销量增加了 2 万多辆

B. 该季度产量高于全年各季度平均水平

C. 四种类型乘用车中,产量高于销量的类型正好占一半

D. 运动型多用途乘用车(SUV)产量增加了不到 50 万辆

※※※ 全部测验到此结束! ※※※

参考答案及解析

第一部分 常识判断

1. C [解析] 第一步, 本题考查时政。第二步, 十九届四中全会指出, “坚持和完善中国特色社会主义制度、推进国家治理体系和治理能力现代化的总体目标是, 到我们党成立一百年时, 在各方面制度更加成熟更加定型上取得明显成效; 到二〇三五年, 各方面制度更加完善, 基本实现国家治理体系和治理能力现代化; 到新中国成立一百年时, 全面实现国家治理体系和治理能力现代化, 使中国特色社会主义制度更加巩固、优越性充分展现。”由此可知③中“二〇三〇年”说法错误, 排除 B、D 选项; 同时, ④说法正确。十九届四中全会指出, 我国国家制度和国家治理体系具有多方面的显著优势, 其中之一为“坚持党的集中统一领导, 坚持党的科学理论, 保持政治稳定, 确保国家始终沿着社会主义方向前进”。由此可知⑤说法正确, 排除 A 选项。因此, 选择 C 选项。

2. C [解析] 第一步, 本题考查时政并选错误项。第二步, 2019 年 10 月 28 日, 中共中央国务院印发的《新时代公民道德建设实施纲要》总体要求: 坚持发挥社会主义法治的促进和保障作用, 以法治承载道德理念、鲜明道德导向、弘扬美德义行, 把社会主义道德要求体现到立法、执法、司法、守法之中, 以法治的力量引导人们向上向善。C 选项中以道德的力量引导人们向上向善错误。因此, 选择 C 选项。

3. C [解析] 第一步, 本题考查脱贫攻坚并选错误项。第二步, “十三五”期间脱贫攻坚的目标是, 到 2020 年稳定实现农村贫困人口不愁吃、不愁穿, 农村贫困人口义务教育、基本医疗、住房安全有保障; 同时实现贫困地区农民人均可支配收入增长幅度高于全国平均水平、基本公共服务主要领域指标接近全国平均水平, 确保我国现行标准下农村贫困人口实现脱贫, 贫困县全部摘帽, 解决区域性整体贫困。选项中“贫困地区农民人均可支配收入增长幅度”“接近全国平均水平”表述错误, 应该是高于全国平均水平。除此之外, 脱贫攻坚的目标任务还包括到 2020 年稳定实现农村贫困人口不愁吃、不愁穿, 农村贫困人口义务教育、基本医疗、住房安全有保障。因此, 选择 C 选项。A 项: 三大攻坚战是指防范化解重大风险、精准脱贫、污染防治, 是在十九大报告中首次提出的新表述。2017 年 10 月 18 日, 习近平总书记在十九大报告中提出: 要坚决打好防范化解重大风险、精准脱贫、污染防治的攻坚战, 使全面建成小康社会得到人民认可、经得起历史检验。B 项: 2016 年 7 月, 习近平总书记在宁夏考察时强调, 发展产业是实现脱贫的根本之策, 把培育产业作为推动脱贫攻坚的根本出路。发展产业既是带动群众就业、促进群众增收最直接最有效的路径, 更是实现“两不愁、三保障”目标最有力最可靠的支撑。D 项: 脱贫攻坚标准, 指的是“两个稳定”, 即稳定实现贫困人口“两不愁、三保障”, 稳定实现贫困地区基本公共服务领域主要指标接近全国平均水平。

4. C [解析] 第一步, 本题考查《中华人民共和国宪法修正案》。第二步, 在 2018 年 3 月 11 日, 第十三届全国人民代表大会第一次会议通过的宪法修正案中, 将《宪法》第一条第二款“社会主义制度是中华人民共和国的根本制度。”后增加了一句, 内容为: “中国共产党领导是中国特色社会主义最本质的特征”。条款的增加体现了对习近平新时代中国特色社会主义思想

想和党的十九大精神的贯彻落实,为坚持党的领导提供了强有力的宪法保障。因此,选择 C 选项。A 项:第十三届全国人民代表大会第一次会议将《宪法》序言中“健全社会主义法制”修改为“健全社会主义法治”,这样的修改,是中国共产党依法治国理念和方式的新飞跃,也是中国特色社会主义法治建设发展规律的体现。有利于推进全面依法治国,建设中国特色社会主义法治体系,加快实现国家治理体系和治理能力现代化。B 项:第十三届全国人民代表大会第一次会议将《宪法》序言中“中国坚持独立自主的对外政策,坚持互相尊重主权和领土完整、互不侵犯、互不干涉内政、平等互利、和平共处的五项原则”后增加“坚持和平发展道路,坚持互利共赢开放战略”。D 项:第十三届全国人民代表大会第一次会议将《宪法》第二十七条增加一款,作为第三款:“国家工作人员就职时应当依照法律规定公开进行宪法宣誓。”而选项表述删除了此条款,因此选项错误。此条款的增加有利于树立宪法权威,加强自律,并让国家工作人员树立宪法意识,为社会尊重和遵守宪法起示范引领作用。

5. D [解析] 第一步,本题考查民族区域自治并选错误项。第二步,《中华人民共和国民族区域自治法》第 15 条规定,民族自治地方的自治机关是自治区、自治州、自治县的人民代表大会和人民政府。民族乡的人民政府不是民族自治地方的自治机关。因此,选择 D 选项。A 项:《中华人民共和国婚姻法》第 50 条规定,民族自治地方的人民代表大会有权结合当地民族婚姻家庭的具体情况,制定变通规定。自治州、自治县制定的变通规定,报省、自治区、直辖市人民代表大会常务委员会批准后生效。自治区制定的变通规定,报全国人民代表大会常务委员会批准后生效。B 项:《中华人民共和国民族区域自治法》第 31 条规定,民族自治地方依照国家规定,可以开展对外经济贸易活动,经国务院批准,可以开辟对外贸易口岸。C 项:《中华人民共和国民族区域自治法》第 36 条规定,民族自治地方的自治机关根据国家的教育方针,依照法律规定,决定本地方的教育规划,各级各类学校的设置、学制、办学形式、教学内容、教学用语和招生办法。

6. A [解析] 第一步,本题考查劳动法并选错误项。第二步,《女职工劳动保护特别规定》第 5 条规定,用人单位不得因女职工怀孕、生育、哺乳降低其工资、予以辞退、与其解除劳动合同或者聘用合同。因此用人单位可因女职工怀孕降低其工资的说法错误。因此,选择 A 选项。B 项:《女职工劳动保护特别规定》第 5 条规定,用人单位不得因女职工怀孕、生育、哺乳降低其工资、予以辞退、与其解除劳动合同或者聘用合同。因此用人单位不得因女职工哺乳解除劳动合同的说法正确。C 项:《劳动法》第 59 条规定,禁止安排女职工从事矿山井下、国家规定的第四级体力劳动强度的劳动和其他禁忌从事的劳动。因此用人单位不得安排女职工从事矿山井下作业的说法正确。D 项:《女职工劳动保护特别规定》第 6 条规定,女职工在孕期不能适应原劳动的,用人单位应当根据医疗机构的证明,予以减轻劳动量或者安排其他能够适应的劳动。对怀孕 7 个月以上的女职工,用人单位不得延长劳动时间或者安排夜班劳动,并应当在劳动时间内安排一定的休息时间。怀孕女职工在劳动时间内进行产前检查,所需时间计入劳动时间。因此怀孕女职工在劳动时间内的产前检查也计入劳动时间的说法正确。

7. A [解析] 第一步,本题考查我国地理并选错误项。第二步,东北地区是全国最大的、比较稳定的商品粮生产基地,每年向国家提供商品粮达 60% 以上,其中三江平原是我国粮食商品率最高的商品粮食生产基地。故 A 项错误。因此,选择 A 选项。B 项:东北平原是中国面积最大的平原。特点:东北平原是我国面积最大的平原,地表以肥沃的黑土著称。海拔大多在 200 米以下,地势坦荡,沃野千里。平原上有些低地常年积水,成为沼泽地。C 项:河套平原位于内蒙古自治区和宁夏回族自治区境内,是黄河沿岸的冲积平原,在几字形的黄河湾。该

地有多处断层发育,说明先有断裂下陷过程,后来河流泥沙在低洼处不断沉积,形成的冲积平原。D项:四川盆地的西部有肥沃的成都平原。平原上始建于战国时的都江堰水利工程,有效地控制了岷江的水患,使大片农田得以自流灌溉,“天府之国”从此闻名遐迩,并进而促进了整个四川地区的政治、经济和文化发展。

8. C [解析] 第一步,本题考查艺术相关知识并选错误项。第二步,《创世纪》是米开朗基罗于1508年5月至1512年10月创作的壁画,现藏于梵蒂冈西斯廷教堂。不是达·芬奇创作的。因此,选择C选项。A项:马踏飞燕为东汉青铜器,1969年10月出土于甘肃省,现藏于甘肃省博物馆。在1983年10月被国家旅游局确定为中国旅游标志,1986年被定为国宝级文物,2002年1月被列入《首批禁止出国(境)展览文物目录》。B项:切、磋、琢、磨是古代玉石加工的技术手段。琢,是用钻、锥等工具雕琢花纹、钻孔;磨,是最后一道工序,用精细的木片葫芦皮、牛皮蘸珍珠砂浆,加以抛光,玉器便发出凝脂状的光泽;切,即解料,解玉要用无齿的锯加解玉砂,将玉料分开;磋,是用圆锯蘸砂浆修治。D项:人民英雄纪念碑是中华人民共和国政府为纪念中国近现代史上的革命烈士而修建的纪念碑。人民英雄纪念碑共有8处浮雕,南面的第三幅就是“五卅运动”。其他的分别是《虎门销烟》《太平天国》《武昌起义》《五四运动》《八一南昌起义》《抗日战争》和《胜利渡长江》。

9. A [解析] 第一步,本题考查建筑知识并选错误项。第二步,丽江古城位于中国西南部云南省的丽江市古城区,坐落在丽江坝中部,地处云贵高原,全城面积达7.279平方公里。洱海盆地位于云南省西部大理境内,是一个断陷型的山间小盆地。因此,选择A选项。B项:阆中古城位于四川盆地东北缘、嘉陵江中游,是国家5A级旅游景区,千年古县,中国春节文化之乡,中国四大古城之一。阆中古城已有2300多年的建城历史,为古代巴蜀军事重镇。C项:徽州古城,又名歙县古城,古称新安郡,位于安徽黄山市歙县徽城镇,总占地面积24.7平方公里。古城始建于秦朝,自唐代以来,一直是徽郡、州、府治所在地,故县治与府治同在一座城内,形成了“城套城”的独特风格。D项:平遥古城位于山西省中部,始建于周宣王时期,明洪武三年(1370年)扩建,距今已有2700多年的历史。平遥古城的民居建筑布局严谨、轴线明确、左右对称、主次分明、轮廓起伏、外观封闭、大院深深,较为完好地保留了明清时期县城的基本风貌,是中国汉民族地区现存最为完整的古城。

10. D [解析] 第一步,本题考查艺术常识并选错误项。第二步,《冰山上的来客》是由长春电影制片厂于1963年制作发行的故事片。影片从维吾尔族姑娘古兰丹姆与战士阿米尔的爱情悬念出发,讲述了边疆战士和杨排长一起与特务假古兰丹姆斗智斗勇最终胜利,阿米尔和真古兰丹姆也得以重逢的故事。电影反映了维吾尔族的文化和生活。因此,选择D选项。A项:电影《刘三姐》是长春电影制片厂于1961年拍摄的故事片。主人公刘三姐是一位聪明、美丽的壮族姑娘,擅长用山歌来赞美劳动、赞美自然和赞美爱情,并用山歌来抗议统治阶级对劳动人民的剥削和压迫。电影反映了壮族的文化和生活。B项:电影《阿诗玛》是上海电影制片厂拍摄的音乐歌舞故事片。影片讲述了美丽的彝族姑娘阿诗玛与勇敢的青年阿黑不畏金钱权势,勇敢追求爱情的故事。电影反映了彝族的文化和生活。C项:电影《五朵金花》是长春电影制片厂1959年制作的音乐爱情电影。该片讲述了白族青年阿鹏与副社长金花在大理三月街一见钟情,次年阿鹏走遍苍山洱海寻找金花,经过一次次误会之后,有情人终成眷属的爱情故事。电影反映了白族的文化和生活。

11. B [解析] 第一步,本题考查科技常识。第二步,世界杯全称国际足联世界杯,是世界上最高规格、也是知名度最高的足球比赛。足球运动被称为世界第一运动,世界各地的人都

很喜欢,第一个冠军是乌拉圭,巴西次数最多。因此,选择B选项。A项:大力神杯是世界杯的奖杯,是足球界的最高荣誉的象征。“德劳内杯”是欧洲杯(欧罗巴足球锦标赛)的奖杯名称。C项:职业足球俱乐部不可以参加世界杯,世界杯参赛方为国家级别球队。D项:首届世界杯在南美洲的乌拉圭比赛,赛事总共有13支队伍参与,包括7支南美洲球队、四支欧洲球队和两支北美洲球队。并不是每届都有36支球队进入决赛圈。

12. B [解析] 第一步,本题考查狂犬疫苗相关知识。第二步,狂犬病病毒宿主范围广,可感染鼠,家兔、豚鼠、马、牛、羊、犬、猫等。如果被动物咬伤而又不能确定该动物是否为健康无毒动物时,应及时到医院处理伤口,或先自行用肥皂水对伤口进行反复彻底清洗干净,这样可将侵入的病毒大部分冲洗掉,然后尽快到卫生防疫部门注射狂犬疫苗。所以被仓鼠咬伤也需要注射狂犬疫苗。因此,选择B选项。A项:对一般咬伤,即皮肤无流血的轻度擦伤、抓伤或破损皮肤被舔舐,应于0天(当天)、3天、7天、14天、28天各注射该疫苗,共需接种5次疫苗。C项和D项:注射狂犬疫苗后机体会产生抗体,但这种有效的抗体维持时间较短,如果这次咬伤距离前次注射疫苗在3—5个月内,加强2针就可以了。若已超过6个月,就应该再重新全程注射。

13. A [解析] 第一步,本题考查生物医学常识。第二步,鹿茸是名贵药材。鹿茸中含有磷脂、糖脂、胶脂、激素、脂肪酸、氨基酸、蛋白质及钙、磷、镁、钠等成分,其中氨基酸成分占总成分的一半以上。鹿茸性温而不燥,具有振奋和提高机体功能,对全身虚弱、久病之后患者,有较好的强身作用。药性属温热。因此,选择A选项。B项:黄连属多年生草本植物,有清热燥湿,泻火解毒之功效。《本草纲目》里介绍黄连“大苦大寒,用之降火燥湿,中病即当止”。药性属寒凉。C项:连翘是双子叶植物纲、捩花目、木樨科、连翘属落叶灌木。果实可以入药,性味苦,凉。《本草通玄》中介绍连翘“久服有寒中之患”。药性属寒凉。D项:柴胡为《中国药典》收录的草药,药用部位为伞形科植物柴胡或狭叶柴胡的干燥根。柴胡是常用解表药,味苦,性微寒,有和解表里,疏肝升阳之功效。用于感冒发热、寒热往来、疟疾、肝郁气滞、胸肋胀痛、脱肛、子宫脱垂、月经不调。药性属寒凉。

14. D [解析] 第一步,本题考查光学知识。第二步,题干中图片反映的是小孔成像。先秦时期墨家的墨翟和其学生,做了世界上第一个小孔成倒像的实验,解释了小孔成倒像的原因。“若鸢飞空中,其影随鸢而移;或中间为窗隙所束则影与鸢相违,鸢东则影西,鸢西则影东”意思是说,若鸢鹰在空中飞翔,它的影子随鸢鹰而移动;如鸢鹰和影子中间被窗户孔隙所约束,影子与鸢鹰做相反方向移动,鸢鹰向东则影子向西移,鸢鹰向西则影子向东移。小孔成像成的是倒立的实像,所以才会有影子与鸢鹰方向相反的现象存在。题干和D项均属于小孔成像现象。因此,选择D选项。A项,“离朱之明,察箴末于百步之外,不能见渊中之鱼”出自《淮南子·原道训》,离朱是传说中黄帝的大臣,视力极佳。由于渊中水深,水对光的吸收,加之水中杂质微粒对光的散射作用,致使明眼人不能看见渊底之鱼。B项:“阳隧是以火珠向日下,以艾于下承之,便得火也”,阳隧起源于西周时期,在物理学上称它为凹面镜。凹面镜对光线有会聚作用,太阳光照射到凹面镜上,经凹面镜反射后,反射光线会聚在焦点上,把可燃物放在凹面镜的焦点上,温度极高,即可得到火源。C项:“鉴,鉴者近,则所鉴大,景亦大;其远,所鉴小,景亦小”,物体靠近镜面,那么物体的光线占镜的面积大,所成影亦大;物体距镜面远,物体的光线占镜的面积小,那么所照物小,讲的是镜面成像。

15. D [解析] 第一步,本题考查生活常识。第二步,空气清新剂是由乙醇、香精、去离子水等成分组成,通过散发香味来掩盖异味,减轻人们对异味不舒服的感觉的一种气雾或喷

雾,起不到净化空气的作用,而且罐装产品中含有的丁烷、丙烷本身就是挥发性的有毒物质,它们在挥发香味的同时会对人体造成伤害。空气清新剂不能杀灭空气中的细菌,不可以作为消毒产品使用。因此,选择D选项。A项:丙三醇,俗称甘油,化妆品中的甘油是一种无色无味的黏性液体,具有保湿锁水的功效。B项:涂料中的铅一旦通过呼吸道、消化道、皮肤等途径进入人体,就会在血液中持续累积,引起贫血、记忆力下降、高血压、关节痛等毒性反应。C项:加酶洗衣粉中添加了多种酶制剂,如碱性蛋白酶制剂和碱性脂肪酶制剂等。汗渍、奶渍和血污中多含有蛋白质,蛋白酶能把蛋白质先分解成可溶性的肽键,然后再分解成氨基酸,从而很容易被洗去。

16. B [解析] 第一步,分析语境。根据“该地茶叶极度稀缺”“内地民间生活和战争所需的大量骡马,同样……”可知,空格处所填成语要与前文“该地茶叶极度稀缺”形成文意上的并列关系,表达“稀缺、不够”之意。第二步,分析选项。A项“缺一不可”指少一样也不可以;D项“难能可贵”指难以做到的事情居然做到了,值得珍视。这两项均不满足语境词义要求,排除A项和D项。比较B项和C项,C项“千金难买”形容某物的珍贵,不能用金钱买到。而根据后文“茶马互市应运而生”不难看出,茶马虽稀缺,但还达不到“纵使千金也难以买到”的地步,排除C项。验证B项,“供不应求”指供应不能满足需求,形容某种事物的需求量很大,但供应不足的意思,符合语境词义要求。因此,选择B选项。

17. A [解析] 第一步,分析语境。根据代词提示“这种‘搭便车’的现象”可知,空格所在句指的现象就是前文“未支付成本却获得了由他人支付成本所带来的收益……”的现象,所以要填入的词语要与前文文意形成对应,表达“享受别人带来的便利”之意。第二步,分析选项。A项“坐享其成”意思为自己不出力而享受别人取得的成果,符合语境。B项“坐收渔利”比喻利用别人的矛盾而从中获利,语境并无“利用别人的矛盾”的提示,排除B项。C项“守株待兔”比喻妄想不劳而获,或死守狭隘的经验,不知变通,语境并无“妄想”“不知变通”的提示,排除C项。D项“以一奉百”多指用一个人生产的物品供养一百个人。指生产的人少,消费的人多。不符合语境,排除D项。因此,选择A选项。

18. B [解析] 第一步,分析语境。先看第一空,根据代词“它们”可知,空格所填词语要与前文“正直而沉静的老实人”形成文义对应,且与后文“极为优雅”构成转折逻辑上的反差。分析选项,A项“迟钝”指反应慢、脑子不灵敏,与语境词义要求不符,排除A项。B项“平庸”指普通、寻常而不突出,对应前文“沉静的老实人”,也能与后文“内里极为优雅”形成反差,保留;C项“木讷”有质朴而不善言辞的语义,不善言辞可对应前文“沉静老实人”,质朴的语义又能对应后文,与“极为优雅”形成反差,保留;D项“沉闷”指(心情)不舒畅,(性格)不爽朗,可以对应前文,但无法与后文“极为优雅”形成反差,排除D项。第二步,再看第二空。根据语境“自身如何被忽视”,可以看出,所填词语要与“忽视”构成语义上的并列关系。“压抑”指对感情、力量等加以限制,使不能充分流露或发挥,无法与“忽视”构成并列关系,排除C项。B项“埋没”意思是使显露不出来,不能发挥作用,可以与“忽视”构成并列,体现不受重视的意识,保留B项。因此,选择B选项。

19. C [解析] 第一步,先看第一空。根据文段“随着制香、用香日益普及,各式各样的炉具_____”,横线前出现新事物“各式各样的炉具”,对应“应运而生”一词,该词指的是(新事物)随着某种时机而产生。“眼花缭乱”多形容眼睛看见复杂纷繁的东西而感到迷乱,不符合语境,“眼花缭乱”一般修饰人,可在“炉具”后加上“令人”一词。“独具匠心”多形容技巧或文学艺术方面有巧妙地心思,“与日俱增”指一天天增加,均没有体现“新事物”产生,均排除。第二

步,带入验证,“不可或缺”符合语义。因此,选择C选项。

20. B [解析] 第一步,突破口在第二空。根据文中“人工智能的发展极具_____,未来谁在人工智能的研发和应用中落后,谁就会被淘汰”可知,“竞争性”可以体现出“谁落后,谁就会被淘汰”,符合文段语境。“优越性”和“倾向性”不符合语义,排除。“替代性”一词,不能体现出后文语境的“淘汰”,而且和“发展”搭配不当,发展有竞争性属于常用搭配。第二步,带入“必然”,符合语境。因此,选择B选项。

21. A [解析] 第一步,先看第一空。根据文段“人们在信息海洋中披沙拣金、澄清谬误的_____在增加”,从语境看,首先排除“风险”一词,文中讲的是从一堆信息中挑选一些正确的、有用的信息,没体现出有风险。第二步,再看第二空。根据文段“科学的通俗程度不够,这些情况的存在,_____着未来应做好科学普及与传播工作”,文段这些情况指的就是前文“通俗程度不够”等不好的情况,倾向性偏消极,对应“提醒”一词,“表明”为中性词,排除。“标志”指的是表明某一事物特征的记号,从词义上可以排除。因此,选择A选项。

22. D [解析] 第一步,突破口在第二空。根据“将空谈错认为……”可知,填入的词语与“空谈”语义相反。“空谈”指只说不做,有言论,无行动,故填入的词语要体现“行动起来”。A项“目的”指所追求的目标;B项“结果”指事物发展所达到的最后状态;C项“事实”指事情的实际情况。三者均不符合文意,排除A项、B项和C项。D项“实践”指用行动使成为事实,履行,侧重于“行动”,符合文意。答案锁定D选项。第二步,验证第一空。“虚假的满足感”搭配得当,体现出寻求认可和鼓励的满足感是不真实的,只有通过实际的行动,才能获得成功。因此,选择D选项。

23. C [解析] 第一步,分析第一空。“往往因人性的善变而……”中的“而”指因而,表因果,该空形容人性善变带来的结果。A项“功败垂成”指事情在将要成功的时候遭到了失败,文段并没有“将要成功的时候遭受失败”的意思,不符合语境,排除A项。B项“力所不及”指凭自己的力量不能做到,文段指的不是“儒家圣贤”的力量无法实现道德政治,而是依托“人性本善”的前提,无法实现道德政治,故“凭借自己力量”的主体不对,排除B项。D项“难以名状”形容无法用语言形容,文段不是强调不能用言语形容,而是人性多变,不能实现道德政治,D项不符合语境,排除D项。C项“不可端倪”指找不着头绪,形容变化莫测,能够照应“善变”,符合文意。答案锁定C选项。第二步,验证第二空。“预判”指对即将到来的事进行判断,体现在人性本恶的前提下,将法度、制度嵌于个人道德与合理的政治之间,能够预见政治运行及其结果,且与前文“人性的善变而不可端倪”形成照应,符合文意。因此,选择C选项。

24. D [解析] 第一步,分析第一空。填入的词语搭配“质疑”。A项“接踵而至”指人们前脚跟着后脚,接连不断地来,符合语境。B项“甚嚣尘上”多指某种言论十分嚣张(含贬义),文段为客观的评论,故与文段感情色彩不符,排除B项。C项“如影随形”好像影子老是跟着身体,比喻两个事物关系密切或两个人关系密切不能分离,文段只有“质疑”一个主体,不符合语境,排除C项。D项“不绝于耳”指声音在耳边不断鸣响,体现出质疑很“多”,符合语境。第二步,分析第二空。该空与“佳作”搭配。A项“琳琅满目”形容美好的事物很多,多与商品搭配,与“佳作”搭配不当,排除A项。D项“风靡一时”形容一种事物在一个时期内非常风行,与“佳作”搭配得当,符合语境。因此,选择D选项。

25. A [解析] 第一步,分析第一空。根据“面对破败凋敝的石窟、岌岌可危的壁画”可知,保护文物是一件非常紧急的事情。A项“迫在眉睫”比喻事情临近眼前,十分紧迫;B项“刻不容缓”指时间一点都不容许耽搁。形容形势紧迫,必须立即行动。二者均符合语境。C项“举足轻重”原指处于两强间的有实力的人,只要稍微倾向一方,就能打破均势。后用来比喻所

处地位重要,一举一动都会影响全局;D项“首当其冲”指处于首先受到攻击或压力的地位。二者语义不符,排除C项和D项。第二步,分析第三空。根据文意可知,常书鸿等艺术家们确立的原状保护原则与西方的文物保护理念一样。A项“别无二致”指没有两样,没有区别。符合文意。B项“殊途同归”原意是通过不同的路径走到同一个目的地。比喻用的方法虽不同,但目标与结果都一样。文段并没有方法不同的含义,排除B项。答案锁定A选项。第三步,验证第二空。“明晰的保护理念”搭配恰当。因此,选择A选项。

26. D [解析] 第一步,快速浏览文段,重点分析尾句,判别文段话题落脚点。文段话题落在以“简”为贵的思想在我国传统文化中有体现。接下来应围绕“我国传统文化”与“简”二者进行论述。第二步,对比选项。D项符合上述语境。A项“唐宋时期绘画的主要艺术风格”对应首句,属于已经论述过的内容;B项对应第四句,属于已经论述过的内容;C项对应第二句,属于前文已经论述过的内容。且三者均与尾句话题“我国传统文化”不一致,排除A项、B项和C项。因此,选择D选项。

27. B [解析] 第一步,分析文段。文段首先介绍“国内创意产业园、主题乐园热衷于引进海外项目,或是复制国外的文化形象”这一现象反映了民族自信的匮乏。然后分析了各地对民族文化形象及其产品转换缺乏兴趣的原因,表面上看是商家追求经济效益,实质上是中国传统文化形象尚未找到同时获得大众和市场认可的表达形式。文段属于问题的表述,意在给出解决问题的合理对策。第二步,对比选项。B项是针对文段问题提出的合理对策。A项“基础”和C项“中西文化冲突一触即发”均属于无中生有,文段并没有提到。D项对应首句,非重点。因此,选择B选项。

28. C [解析] 第一步,分析文段。文段首先提出想要通过现存史料回答一些基本问题是很困难的。接着通过“比如”援引了对清代江南书店针对普通读者的售书情况的研究作为例证来说明通过现存史料回答一些基本问题会有无从入手之感是因为现有的材料往往是经过筛选的二道材料。文段重在说明“二道材料”导致的无奈感。第二步,对比选项。A项话题为“清代书籍史研究”,清代为例子中的内容,非重点。B项“历史研究者应始终保持客观的立场”说法无中生有,文段并未说研究者研究立场的话题。C项“一手资料在书籍史研究中有重要价值”与文段主旨相一致。D项“需对史料进行充分地挖掘”与文段话题不一致,文段并未提到挖掘不够充分的问题。因此,选择C选项。

29. D [解析] 第一步,分析文段。文段首句引出话题,提到产学研合作一直是我国科技体制改革的核心议题之一。接着说到很多情况下,产学研合作完全可以由社会力量组织完成。第三句说到科技类社会组织可以促进合作达成。最后一句通过“因此”对前文进行总结,提出“留给社会”也是解决产学研合作动力问题的一种方式。第二步,对比选项。文段主旨同义替换对应D项。因此,选择D选项。A项:无中生有,文段并未对产学研合作动力不足的原因展开分析。B项:“科技类社会组织”对应“因此”前的内容,非重点。C项:“科技体制改革”对应文段首句,为引出话题的部分,非重点。

30. A [解析] 第一步,分析文段。文段首先提出土地开发不等于一切推到重来。第二句说到一座城市拥有历史传统与文化底蕴才能称得上名城。第三句提出对策“与其在历史文物消失之后重建或新修,不如对现有文物加以保护利用”。而后具体说明了如何保护历史文物。文段为“提出问题—解决问题”的结构,对策是文段的重点。第二步,对比选项。A项是文段重点的同义替换。因此,选择A选项。B项:并未提到核心话题“文物保护”。C项:“列入保护名录的文物”对应分说的一部分,片面且非重点。D项:“文物保护与土地利用之间的矛盾”无中生有。

31. C [解析] 第一步,分析文段。文段先通过一个递进关系强调了语言对于文化的重要作用,接着通过反面论证进一步说明了语言对于文化的重要作用,然后通过因果关联词“所以”引出结论,语言不断灭亡会导致文化生态遭到破坏,最终影响人类社会的持续发展,尾句通过援引学者的观点进行论证。文段为“分—总—分”结构,“所以”之后是重点,强调语言的多样性对人类社会持续发展的影响。第二步,对比选项。C项是文段重点的同义替换。因此,选择C选项。A项:没有提到文段的核心话题“语言多样化”。B项:没有提到“语言多样化”,且对“文化生态状况”的影响不是最终结果。D项:“语言的民族性”文段未提及,属于无中生有。

32. C [解析] 第一步,分析文段。文段先指出人们依赖搜索引擎,接着通过转折指出这种做法是错误的,并介绍了其消极影响,然后指出人们理解某种事物正确的过程应该是逐步去了解和熟悉,最后通过反面论证提出对策,即不能过多依赖网上的结论。文段为“提出问题—解决问题”的结构,强调不能过多依赖互联网。第二步,对比选项。C项是文段重点的同义替换。因此,选择C选项。A项:没有提到文段的核心话题“互联网”。B项:文段的问题不是人们缺乏对互联网海量信息的辨识能力,而是过多依赖互联网容易造成碎片式、拼接式思维,B项不能解决文段中的问题。D项:没有提到“过多依赖互联网”。

33. B [解析] 第一步,分析文段。文段先指出企业、媒体等传递出的物质主义消费理念造成部分人过分追求消费水平的提升而忽视了自身情况和环保问题,这一问题应当引起关注,接着从正反两方面指出我国的实际情况,即消费应该升级但也应反对物欲横流,然后通过“事实上”进行补充说明,指出国家鼓励消费但不鼓励浪费。文段为“总—分”结构,首句是文段的主旨句,这句话是一个因果关系,“果”是重点,强调部分人盲目追求消费水平的提升,是错误的消费观。第二步,对比选项。B项是文段针对的问题。因此,选择B选项。A项:“对环境的破坏”属于错误消费观带来的问题之一,片面。C项:对应首句原因的部分,非重点。D项:“传统的节俭观念”属于后文解释说明的部分,非重点,且“被淡忘”文段未提及。

34. A [解析] 第一步,分析文段。文段前两句从读者的角度出发,介绍了“80后”接触漫画主要是通过杂志和画册,而“90后”“00后”们则是从电脑、手机上看网络漫画,也就是互联网改变了人们看漫画的方式。后半部分从漫画创作者的角度出发,指出随着数字网络技术的发展,大量漫画作者通过网络创作和展示自己的作品。通过分析可知,文段为并列结构,说明互联网的发展对漫画读者和创作者均带来了影响,读者通过互联网获取漫画,创作者通过互联网创作传播漫画。第二步,对比选项。A项是对全文的概括归纳。因此,选择A选项。B项:为前半部分的并列内容,表述片面。C项:“吸引力”话题错误。D项:“对读者”表述片面。

35. C [解析] 第一步,分析文段。文段前两句指出哲学思维的特点是高度抽象化和理性化,尽管有这样的特点,哲学依然与生活有关,它所讨论的并不是一些纯粹思辨的、冷冰冰的问题。接着通过“其实”指出“哲学的抽象性主要是指论证方式,而非哲学问题”,随后引出文段的主旨句,即重点说明“哲学问题”是什么——“哲学中的问题来自生活和科学,都是确实且普遍存在的”。后文对此进行补充的解释说明。第二步,对比选项。C项是对主旨句的同义替换。因此,选择C选项。A项:表述错误,文段首句介绍哲学思维的特点是高度抽象化和理性化,而非“思辨性”,且偏离重点。B项:表述空洞,哲学与现实生活到底有无关系,选项并未点破,且文段探讨的核心话题是“哲学问题”。D项:“哲学论证方式”偏离核心话题“哲学问题”。

36. C [解析] 第一步,分析文段。文段首句介绍了土地流转的好处。随后指出近年来,我国农村土地承包经营权流转过程中忽略了一些问题,从而可能带来一些负面问题。文段后半段以“因此”引出主旨句,重在提出对策——“土地流转规模就不该是越大越好,而是要有

个度”。尾句通过反面论证进行补充论证。即文段重在强调土地流转规模要有度。第二步,对比选项。C项是对主旨句的同义替换,符合文段意图。因此,选择C选项。A项:“粮食单产”出现在尾句的反面论证中,偏离重点。B项:“目前存在认识误区”为问题的表述,偏离对策。D项:“弊大于利”属于无中生有,且为问题的表述,偏离对策。

37. B [解析] 第一步,分析横线处的上下文语境。横线之前强调“推动文化产业发展,需要突出‘融合’这个关键词”,横线后提到“与多个产业存在天然的耦合关系,具有与其他产业融合发展的良好基础和广阔空间”。由此可知,横线处应与上下文话题一致,指出文化产业自身的特性,且这个特性应能与其他产业之间构建联系。第二步,对比选项。B项“文化产业是一个渗透性、关联性很强的产业”符合上述语境。因此,选择B选项。A项、C项和D项:“融合的节奏快、势头猛”“是文化、经济、技术等相互融合的产物”“扮演了先锋角色”均无中生有,且与文段话题不一致。

38. B [解析] 第一步,分析横线处的下文语境。根据“需要协同的力量”及后文从不同主体具体展开论述可知,横线后是在探讨如何对游戏进行监管,并明确指出要多方出力。横线位于文段开头,需要填入一个总领全文的句子,且与文段话题一致。第二步,对比选项。B项符合上述语境。因此,选择B选项。A项:“国产游戏”这一主体错误。C项:“成为生活的有益补充”属于无中生有。D项:“形成合力”意为相互配合,文段不是说三方之间要相互配合,而是在游戏监管这个方面,树立“大监管”理念,即各方都要出力。

39. C [解析] 第一步,分析文段。文段先进行背景铺垫,指出截至2016年底,中国高铁运营里程突破2.2万公里,引出中国高铁的话题,后文展开介绍这五年,中国高铁所取得的成就,尾句点明中国高铁成为国民经济的大动脉。尾句是文段的主旨句,强调中国高铁对经济发展的作用。第二步,对比选项。C项适合做文段的标题。因此,选择C选项。A项:“进入规模化运营新时代”偏离文段重点。B项:主体错误,文段的主体是“中国高铁”而非“高铁沿线省市”。D项:“百姓荣誉感”属于无中生有。

40. D [解析] 第一步,分析文段。文段先提出问题,人们常用的解读历史的方法是通过文献,然而这样往往带有很大偏颇。接着解释说明文献为什么会失真。最后提出客观解读历史的办法,即文物相比文献,不容易失真,能不偏不倚地讲述历史。文段是“分—总”结构,主旨句为最后一句,主要论述文物讲述历史的客观性。第二步,对比选项。D项是对主旨句的同义替换,适合做文段的标题。因此,选择D选项。A项和B项:“文物背后的故事”“活起来”文中均未提及,属于无中生有。C项:偏离话题“文物”。

41. A [解析] 第一步,分析文段,判断原文话题落脚点。文段先论述实体商店有“重新再出发”的趋势,而网店却愈来愈难获取流量。接着解释说明原因。最后文段话题的落脚点在实体店在全新的经营理念中不是一个单纯的买卖空间,而是体验与关系的集合,这种体验带来的愉悦感是电商无法取代的。换句话说,文段最后话题论述的是全新理念的实体店具有电商无法取代的优势。第二步,对比选项。A项“体现全新理念的实体商业案例”最能衔接文段末尾的话题,最有可能是接下来要论述的内容,符合上述语境。因此,选择A选项。B项:“不同消费渠道的统计数据变化”无中生有。C项:文段重点在于实体店的崛起,而不是实体店和电商分化消费市场。D项:原文尾句已经论述了线下购物不可替代的理论依据,即“人不可能永远活在虚拟世界”。

42. D [解析] 第一步,观察选项,确定首句。根据①句时间词“1999年”和“标志着军事实践向虚拟空间更进一步”;④句时间词“1904年”和“这是人类军事实践第一次进入电磁虚拟空间”可知④在①的前面,排除B项和C项。②句论述从世界最近几次局部战争得出的结论。

从逻辑上应先介绍最近几次战争,再从战争中得出结论,由此可知④①两句在②句之前,排除A项。答案锁定D选项。第二步,验证D选项,逻辑通顺,语义连贯。因此,选择D选项。

43. B [解析] 第一步,观察选项,判断首句。①③④⑤均可作首句,不好排除。第二步,寻找原文突破口。③句提到“取消高速公路省界收费站,不仅需要‘大破’,还需要‘大立’”,即高速公路省界收费站不仅要取消即“破”,还要借此引申出更多的发展即“立”,⑥句提到“应以取消省际收费站为突破口,加快ETC乃至汽车智能感应系统普及化”,表述的内容为以取消省际收费站为突破口,引申出更多发展,按照逻辑,先引出话题,再谈论以此为突破口引出更多发展,故③在⑥前,排除C项和D项。再寻找②句中“这一目标”的指代内容。对比A项和B项,需要判断②句前是③还是⑤。根据②句“如果实现这一目标,并善用由此产生的海量汽车与公路流量大数据”可知,“这一目标”与“汽车与公路”有关。③提到“取消高速公路省界收费站,不仅需要‘大破’,还需要‘大立’”,⑤提到“成为中国汽车物联网和下一代智能高速公路走入应用场景的突破口”,⑤与“汽车与公路”有关,⑤②捆绑,B项当选。代入验证,B项逻辑通顺,语义连贯。因此,选择B选项。

44. B [解析] 第一步,分析文段。文段一开始提到我们对于传统文化的错误理解,即“否定”“将其置于流行文化的反面”。随后指出流行文化与传统文化的关系,即“流行文化是在对现代流行元素和传统文化的结合与扬弃基础之上所形成的,特别是在今天,传统文化与流行文化的界限已经越来越模糊”。紧接着指出传统文化在今天所遭遇的压力的原因是“传播形式上的困境”,最后针对传统文化遭遇的压力问题所产生的原因提出解决的对策,即“创新传统文化的传播形式,将之与流行文化元素和新技术相嫁接,就成为当下发展、弘扬和传播传统文化的一个重要突破口”。文段是“分—总”结构,对策是主旨句。第二步,对比选项。B项是对主旨句的同义替换,符合文段意图。因此,选择B选项。A项和C项:文段谈论的是“传统文化如何发展、弘扬和传播”,而非“流行文化与传统文化的关系”。D项:未提到“文化”,且“新技术”偏离核心话题。

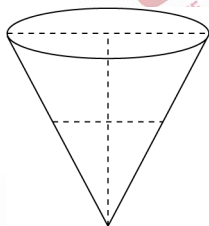
45. D [解析] 第一步,分析文段。文段一开始提到话题“科学精神在欧洲的确立”,强调“科学精神之所以能在欧洲率先确立起来,得益于科学精神的扩散与传播在两个方面所取得的显著成就”,之后分别从“社会生活层面”和“观念层面”进行解释。故整个文段为“总—分”结构,首句为主旨句,强调“科学精神在欧洲率先确立起来的原因”。第二步,对比选项。D项是对主旨句的同义替换。因此,选择D选项。A项:“欧洲工业革命”为解释说明的内容,非重点,且未提及核心话题“科学精神”。B项:“批判性特质”为解释说明的内容,非重点。C项:“生产关系变革”无中生有。

46. B [解析] 第一步,本题考查容斥原理。第二步,设只参加乒乓球小组人数为 x ,则只参加羽毛球小组的人数为 $4x$,只参加一个小组和同时参加两个小组的人数都为 $x+4x+11=5x+11$,有 $2\times(5x+11)=72$,解得 $x=5$ 。由题意可知未参加篮球小组的乒乓球小组人数是只参加乒乓球小组人数的2倍,则参加乒乓球小组但未参加篮球小组的人数是10,那么参加包括篮球在内的两个小组的有 $72-10-20-11=31$ (人)。因此,选择B选项。

47. A [解析] 第一步,本题考查概率问题。第二步,总情况数为 $C_{50}^2 \times C_{50}^2 = (25 \times 49)^2$,两道题相同的情况数为 $C_{50}^2 = 25 \times 49$,则满足的概率为 $\frac{1}{25} \times \frac{1}{49}$ 。因此,选择A选项。

48. D [解析] 第一步,本题考查几何问题。第二步,如图所示,下半部分锥体高度与整

个锥体高度之比为 1:2, 则体积比为 1:8, 高度下降一半, 则整个锥体(上半部分)体积 $\frac{7}{8}$ 的沙子流出, 所需时间为 $60 \times \frac{7}{8} = 52.5$ 分钟。因此, 选择 D 选项。



49. A [解析] 第一步, 本题考查经济利润问题。第二步, 大卡车载重量为 13 吨, 运费为 1000 元, 小货车载重量为 5 吨, 运费为 500 元, 单位体积材料运费 $\frac{1000}{13} < \frac{500}{5}$, 运费最低应多用大卡车。所有货车正好装满整数车, 可知大卡车需要 5 辆, 小货车需要 7 辆 ($13 \times 5 + 5 \times 7 = 100$ 吨)。运费最低为 $1000 \times 5 + 500 \times 7 = 8500$ (元)。因此, 选择 A 选项。

50. C [解析] 第一步, 本题考查行程问题, 用比例法解题。第二步, 第一次迎面相遇两人共走 1 个全程, 第三次迎面相遇两人共走 5 个全程, 那么两次相遇甲走过的路程之比为 1:5。设全程为 s 米, 甲到达 B 点 2 次, 则甲第三次相遇时跑的距离为 $3s + 200$ 米, 有 $1000 : (3s + 200) = 1 : 5$, 解得 $s = 1600$ 。因此, 选择 C 选项。

解法二: 设 AB 两点间跑道长度是 s 米, 甲到达 B 点 2 次, 则甲跑的距离为 $3s + 200$ 米, 乙到达 A 点 1 次, 则乙跑的距离为 $2s - 200$ 米, 由速度一定, 路程比相同列方程: $\frac{3s + 200}{2s - 200} = \frac{1000}{s - 1000}$, 采用代入排除法, 当 $s = 1600$ 米时, 等式成立。因此, 选择 C 选项。

51. D [解析] 第一步, 本题考查经济利润问题, 属于分段计费类。第二步, 小张买的商品折后 490 元 (500 元部分打九折是 450 元, 超出部分打八折后是 40 元), 则原价为 $500 + 50 = 550$ (元)。小李买的商品便宜 120 元 (500 元的部分便宜 50 元, 超出部分便宜 70 元, 则超出部分为 350 元), 则原价为 $500 + 350 = 850$ (元)。分别购买花费 $490 + (850 - 120) = 1220$ (元)。第三步, 一起结账花费 $500 \times 0.9 + (550 + 850 - 500) \times 0.8 = 1170$ (元), 可节省 $1220 - 1170 = 50$ (元)。因此, 选择 D 选项。

解法二: 小张付款的原价为 550 元, 小李付款的原价为 850 元, 小张的商品无论是否与小李合并支付, 均需 490 元, 而合并之后小李付款中的 500 元由九折变为八折, 即节省 $500 \times 10\% = 50$ (元)。因此, 选择 D 选项。

52. C [解析] 第一步, 本题考查数列问题。第二步, 整个杂志中广告页数为 $1 + 2 + 3 + \dots + (X + 1)$, 非广告页页数为 $1 + 2 + 3 + \dots + X$ 。枚举可知当 $X = 14$ 时, 前 14 项正整数之和是 105, 前 $X + 1$ 项即前 15 项正整数之和是 120, 相加页数为 225 页, 超过 200 页。当 $X = 13$ 时, 前 13 项正整数之和是 91, 前 $X + 1$ 项即前 14 项正整数之和是 105, 相加页数为 196 页, 不超过 200 页, 符合题意, 那么广告页最多为 105 页。因此, 选择 C 选项。

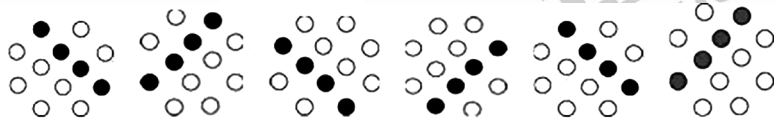
解法二: 由题意可推知, 每个周期间隔的页数和广告页之和是一个定值 $(X + 2)$, 除最后一页外, 有 X 个周期, 故 $X(X + 2) + 1 = (X + 1)^2 \leq 200$, 解得, $(X + 1)$ 最大为 14。第三步, 广告页最多有 $(1 + 14) \times 14 / 2 = 105$ (页)。因此, 选择 C 选项。

53. D [解析] 第一步, 本题考查排列组合问题, 用捆绑法解题。第二步, 先把每个主题的 2 个人捆绑在一起, 形成 5 个整体, 有 $A_5^5 = 120$ (种) 排列方式, 每个整体内部是 2 个人, 有 2 种排列方式。故共有 $120 \times 2^5 = 3840$ (种) 发言次序。因此, 选择 D 选项。


54. C [解析] 第一步, 本题考查经济利润问题。第二步, 若出险理赔, 未来第一年, 保费多花 $4500 \times (100\% - 60\%) = 1800$ (元); 未来第二年, 保费多花 $4500 \times (85\% - 60\%) = 1125$ (元); 未来第三年, 保费多花 $4500 \times (70\% - 60\%) = 450$ (元), 所以一共多花 $1800 + 1125 + 450 = 3375$ (元)。那么当 X 超过 3375 元时, 出险理赔比自修更合适。因此, 选择 C 选项。

55. D [解析] 第一步, 本题考查几何问题。第二步, 需要磨光的面积包括: ① 12 个棱, 每个棱 4 个面, 共计 48 个面, 面积为 $80 \times 10 \times 48 = 38400$ (平方厘米); ② 8 个顶角, 每个顶角 3 个面, 共计 24 个面, 面积为 $10 \times 10 \times 24 = 2400$ (平方厘米)。那么一共要磨光的面积为 $38400 + 2400 = 40800$ (平方厘米), 需要 40800 元。因此, 选择 D 选项。

56. D [解析] 第一步, 观察特征。组成元素相同, 小黑点的位置不同, 优先考虑动态位置。第二步, 一条式, 从左到右找规律。图中四个连续的黑点与图形整体依次逆时针旋转 90° , 如下图所示:



其余两个小黑点, 沿外围依次顺时针移动一步, 如下图所示:



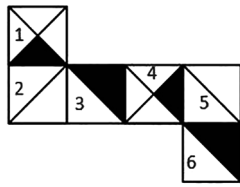
将两部分结合, 如图所示: 因此, 选择 D 选项。

57. B [解析] 第一步, 观察特征。组成元素不同, 优先考虑数量类或属性类。图形出现“十”字型交点, 优先考虑数点。第二步, 一条式, 从左到右找规律。题干图形交点数依次为 3、4、5、6、7、?, 呈等差规律, 所以问号处应该选择交点数为 8 的图形, 只有 B 项符合。因此, 选择 B 选项。

58. A [解析] 第一步, 观察特征。图形均有重合的部分, 并且组成元素相同, 优先考虑静态位置。第二步, 一条式, 从左向右找规律。题干图形都是两个图形相交组成, 且相交部分图形的线条数均为 5, 只有 A 项符合。因此, 选择 A 选项。

59. D [解析] 第一步, 观察特征。组成元素不同, 优先考虑数量类或属性类。每个图形均由多种元素组成, 考虑元素的种类。第二步, 九宫格, 横向规律较为常见, 优先考虑。第一行, 每个图形均有一种元素, 第二行每个图形均有两种元素, 第三行前两个图形均有三种元素, 所以问号处图形应该含有三种元素, 只有 D 项符合。因此, 选择 D 选项。

60. C [解析] 第一步, 本题考查折纸盒。



第二步,分析选项。

A项:由于面3和面6同时出现,所以正面不能是面5,只能是面2,面2、3和6的相对位置关系及图案特征与题干展开图一致,排除;

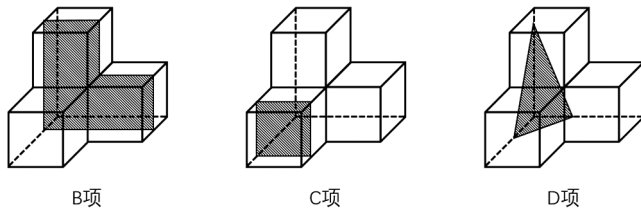
B项:由于面2和面5同时出现,所以顶面不能是面3,只能是面6,面2、5和6的相对位置关系及图案特征与题干展开图一致,排除;

C项:由于面1和面4同时出现,所以正面不能是面2,只能是面5,但是面1、4和5的相对位置关系与题干不一致,当选;

D项:由于面3和面6同时出现,所以顶面不能是面1,只能是面4,面3、4和6的相对位置关系及图案特征与题干展开图一致,排除。

因此,选择C选项。

61. A [解析] 第一步,明确设问内容。选择不可能是该立体图形的截面的选项。第二步,分析选项。B、C、D项均可由该立体图形截出,如下图所示:

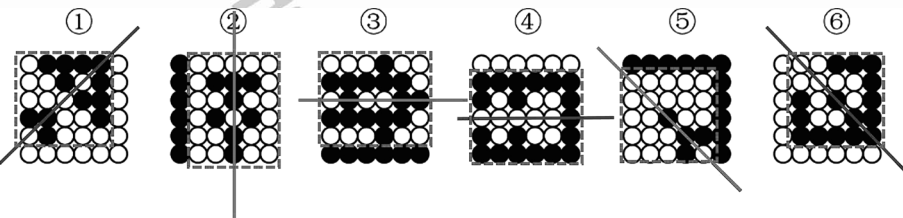


因此,选择A选项。

62. D [解析] 第一步,观察特征。组成元素不同,优先考虑数量类或属性类。图形均由简单线条组成,优先考虑一笔画。第二步,根据规律进行分组。图形①⑤⑥均能两笔画成,图形②③④均能一笔画成,依此规律分为两组。因此,选择D选项。

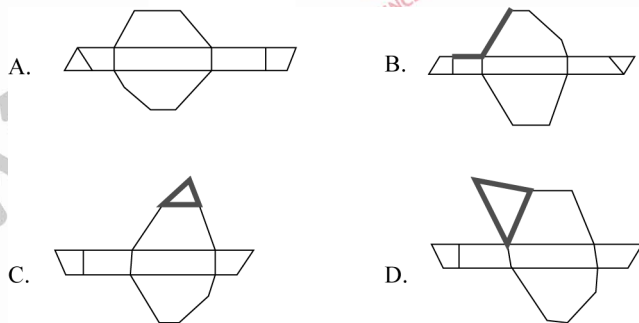
63. B [解析] 第一步,观察特征。观察每幅图,发现每幅图中均存在平行线,考虑平行线的组数。第二步,根据规律进行分组。图形①③⑤中的图形均存在一组平行线,图形②④⑥中均存在多组平行线,分为两组。因此,选择B选项。

64. D [解析] 第一步,观察特征。组成元素不同,优先考虑数量类或属性类。且每个图形黑点排布对称性明显,优先考虑对称性。第二步,根据规律进行分组。图形①④⑥黑点排布呈现轴对称性,图形②③⑤白点排布呈现轴对称性,依此规律分为两组。



因此,选择D选项。

65. A [解析] 第一步,明确设问内容。本题考查折纸盒。第二步,分析选项。A项:各个面的相对位置关系和展开图中一致,正确;B项:如图,两条边长度对应不一致,不能重合,排除;C项:立体图形前后方相连的分别是五边形和梯形,且和后面的梯形相连的是顶面的梯形,而选项中和梯形相连的是三角形,排除;D项:选项中正上方的三角形过大,不能封闭,排除。



因此,选择 A 选项。

66. B [解析] 第一步,看提问方式,本题属于选是题。第二步,找关键信息。(1)防御机制:心灵对内外压力和情绪冲突做出无意识和自动化反应的方式;(2)替代:①无法对某人或物发泄的精力;②转移到另一个人或物上。

第三步,辨析选项。

A项:早上没时间吃饭,于是中午把早午饭一起吃了,不涉及“内外压力和情绪冲突”,也不涉及“无法对某人或物发泄的精力”,不符合定义;

B项:在单位受了老板的气,回家后把怒气转嫁到了孩子身上,体现了“把无法对某人或物发泄的精力转移到另一个人或物上的过程”,符合定义;

C项:妈妈不让吃冰激凌,小冰只好买了很多糖果,不涉及“内外压力和情绪冲突”,也不涉及“无法对某人或物发泄的精力”,不符合定义;

D项:很喜欢一位男同事,却经常跟别的同事讨论该男同事的缺点,不涉及“内外压力和情绪冲突”,也未体现“把无法对某人或物发泄的精力转移到另一个人或物上”,不符合定义。

因此,选择 B 选项。

67. A [解析] 第一步,看提问方式,本题属于选是题。第二步,找关键信息。①以人类与环境的关系为核心;②以解决环境问题和实现可持续发展为目的;③提高人们的环境意识和有效参与能力、普及环境保护知识与技能;④以培养环境保护人才为任务;⑤以教育为手段。

第三步,辨析选项。

A项:倡导遵守保护环境的行为规范,符合“提高人们的环境意识和有效参与能力、普及环境保护知识与技能”,符合定义;

B项:讲授与环境有关的自然科学知识,未体现“以人类与环境的关系为核心”,也未体现“提高人们的环境意识和有效参与能力、普及环境保护知识与技能”,不符合定义;

C项:讲授改造自然环境的理论与方法,未体现“以解决环境问题和实现可持续发展为目的”,不符合定义;

D项:提倡从环境中获取满足人类需求的资源,未体现“以解决环境问题和实现可持续发展为目的”,不符合定义。

因此,选择 A 选项。

68. B [解析] 第一步,看提问方式,本题属于选非题。第二步,找关键信息。①忽略了

那些已经不可能向我们显示的数据;②仅仅根据能够向我们展现出的数据;③得出某种错误结论。

第三步,辨析选项。

A项:记者在高铁上调查乘客买票的情况,认为买到车票非常容易,说明忽略了没有买到车票的那部分人的情况,符合“忽略了那些已经不可能向我们显示的数据”,且最后“得出错误结论”,符合定义;

B项:小张看到大多数人给了某部电影好评,电影评论中有好评有差评,说明所有数据都展示了,不符合“忽略了那些已经不可能向我们显示的数据”,不符合定义;

C项:商业传奇的缔造者都是辍学后创业的,小李读了他们的传记,决定退学创业,说明小李相信了“读书无用论”,忽略了辍学后的绝大部分未成功者,“忽略了那些已经不可能向我们显示的数据”,体现了“仅仅根据能够向我们展现出的数据,得出错误结论”,符合定义;

D项:老王在朋友圈询问哪种钙片补钙效果好,只有老刘一个人推荐了,他就决定服用该种钙片,直接忽略了其他人的经验和可能的推荐,说明“忽略了那些已经不可能向我们显示的数据”,体现了“仅仅根据能够向我们展现出的数据,得出错误结论”,符合定义。

因此,选择B选项。

69. C [解析] 第一步,看提问方式,本题属于选是题。第二步,找关键信息。①在他人

的直接请求下,按照他人要求做;②使他人请求得到满足。

第三步,辨析选项。

A项:非典时人们争相购买板蓝根,未体现“他人的直接请求”,不符合定义;

B项:按照组织的安排去了西藏工作,组织的安排不符合“他人的直接请求”,不符合定义;

C项:女友说想吃火锅,晓强带她去了火锅店,体现了晓强在女友(他人)的“直接请求下按照他人要求做”并“使他人请求得到满足”,符合定义;

D项:小菁为了让妈妈安心上班,主动提出照顾奶奶,未体现“他人的直接请求”,不符合定义。

因此,选择C选项。

70. D [解析] 第一步,看提问方式,本题属于选是题。第二步,找关键信息。(1)知觉选择性:把知觉对象从背景中区分出来加以优先清晰反应;(2)对象:被清晰知觉到的客体;(3)背景:未被清晰知觉到的客体。

第三步,辨析选项。

A项:把不完整的三角形看成是完整的三角形,未涉及“被清晰知觉到的客体”和“未被清晰知觉到的客体”,不符合定义;

B项:在山下看,觉得城市很大,在山顶看,觉得城市很小,体现的是近大远小,未涉及“被清晰知觉到的客体”和“未被清晰知觉到的客体”,不符合定义;

C项:留学生写错、看错,是因为他们对汉字不熟悉,未涉及“被清晰知觉到的客体”和“未被清晰知觉到的客体”,不符合定义;

D项:樵夫和猎人看同一张森林照片,樵夫看到很多树木,说明对樵夫来说,树木是“被清晰知觉到的客体”,猎人看到林间的猎物,说明对猎人来说,猎物是“被清晰知觉到的客体”,体现了“把知觉对象从背景中区分出来加以优先清晰反应”,符合定义。

因此,选择D选项。

71. C [解析] 第一步,确定题干逻辑关系。“云梯”是“攻城”时使用到的工具,二者属于

工具对应关系。第二步,辨析选项。A项:“栽培”与“水稻”属于动宾关系,排除;B项:“生产”与“商品”属于动宾关系,排除;C项:“油灯”是“照明”时使用的工具,二者属于工具对应关系,与题干逻辑关系一致,符合;D项:“驿站”是古代供传递军事情报的官员途中食宿、换马的场所,而不是工具,排除。因此,选择C选项。

72. A [解析] 第一步,确定题干逻辑关系。“飞机”是“飞行员”工作的场所,二者属于对应关系,且“飞行员”是一种职业。第二步,辨析选项。A项:“教室”是“教师”工作的场所,二者属于对应关系,且“教师”是一种职业,与题干逻辑关系一致,符合;B项:“海军”工作的场所应是军舰,而不是“大海”,排除;C项:“妻子”是一种身份,而不是一种职业,排除;D项:“皇帝”不是一种职业,排除。因此,选择A选项。

73. D [解析] 第一步,确定题干逻辑关系。“红颜”可以比喻“女性”,“娥眉”比喻“女性”,二者与“女性”属于比喻象征关系。第二步,辨析选项。A项:“襁褓”泛指1岁以下幼童,“垂髫”指三四岁至七岁(女)、八岁(男)的儿童,“幼儿”指1岁的孩子度过了婴儿期,进入了幼儿期,三者不存在比喻象征关系,排除;B项:“花甲”指60岁,与“老人”属于包容关系中的种属关系,排除;C项:“四海”指天下、全国,“八荒”指东、西、南、北、东南、东北、西南、西北等八面方向,也称“天下”,三者属于全同关系,排除;D项:“婵娟”比喻“月亮”,“玉盘”比喻“月亮”,二者与“月亮”属于比喻象征关系,与题干逻辑关系一致,符合。因此,选择D选项。

74. C [解析] 第一步,确定题干逻辑关系。“页边距”与“文字方向”是“页面设置”的内容,二者与“页面设置”属于对应关系,其中“页边距”与“文字方向”是“页面”的组成部分,二者与“页面”属于包容关系中的组成关系。第二步,辨析选项。A项:“公式”与“页码”属于“插入”的内容,而不是“插入图片”的内容,排除;B项:“宋体”与“黑体”属于“字体设置”的内容,二者与“字体设置”属于对应关系,但“宋体”与“黑体”属于“字体”,二者与“字体”属于包容关系中的种属关系,排除;C项:“附件”与“正文”属于“邮件发送”的内容,二者与“邮件发送”属于对应关系,其中“附件”与“正文”是“邮件”的组成部分,二者与“邮件”属于包容关系中的组成关系,与题干逻辑关系一致,符合;D项:“保存文档”与“硬盘”“手机”属于工具对应关系,排除。因此,选择C选项。

75. A [解析] 分别将选项代入题干,确定逻辑关系。A项:“城堡”和“大厦”属于并列关系,“琵琶”和“电吉他”属于并列关系,前后逻辑关系一致,符合;B项:“高楼”与“大厦”均指高大的建筑,二者属于全同关系,“琵琶”与“舞台”无明显逻辑关系,前后逻辑关系不一致,排除;C项:“工人”修建“大厦”,二者属于主宾关系,“制琴师”制作“琵琶”,二者属于主宾关系,但前后词语顺序不一致,排除;D项:“房间”和“大厦”属于包容关系中的组成关系,“琴弦”和“琵琶”属于包容关系中的组成关系,但前后词语顺序不一致,排除。因此,选择A选项。

76. B [解析] 第一步,确定题型。根据关联词“所有……都……”等,确定为集合推理。第二步,翻译题干。①3名干部是博士;②有的博士不是管理专业毕业;③女性→管理专业毕业。第三步,进行推理。条件②中“不是管理专业毕业”是对③的“否后”,根据“否后必否前”可得:不是女性,即有些博士不是女性。因此,选择B选项。

77. C [解析] 第一步,确定题型。根据提问方式中的“驳斥”,确定为削弱论证。第二步,找论点和论据。论点:母亲妊娠期补充DHA不能使孩子更聪明。论据:对比实验临床试验中,两组孕妇每日服用含有800毫克DHA的补充剂或安慰剂。两组孩子在18个月大时,其平均的认知,语言及运动评分之间没有差别。此后,研究人员对这些孩子在4岁时的表现进行了跟踪评估,大多数(91.9%)家庭参与了该研究。研究人员发现,对认知、从事复杂思

维处理、语言及执行功能(如记忆、推理、解决问题)的检测结果在两组间没有显著差异。

第三步,辨析选项。

A项:无关选项。该项讨论的是母亲需摄入的DHA的数量不确定,与论点母亲妊娠期补充DHA后孩子是否更聪明无关,论题不一致,排除。

B项:无关选项。该项讨论的是DHA能降低早产风险和孩子过敏的风险,与论点母亲妊娠期补充DHA后孩子是否更聪明无关,论题不一致,排除。

C项:否定论据。该项指出7岁才是预测智力的最早年龄,否定了题干论据,具有削弱作用。

D项:无关选项。该项讨论的是孩子服用DHA后的好处,与论点母亲妊娠期补充DHA后孩子是否更聪明无关,论题不一致,排除。

因此,选择C选项。

78. A [解析] 第一步,确定题型。根据提问方式中的“前提”,确定为加强论证。第二步,找论点和论据。论点:鸚鵡嘴龙最有可能居住在森林里。论据:考古学家通过对消失已久的鸚鵡嘴龙进行体色重建,发现其腹部颜色为浅色而背部颜色较深,这是一种保护色,作用是通过在身体上形成阴影,让动物自身在其他动物眼中失去立体效果,因此也被称为反荫蔽体色。

第三步,辨析选项。

A项:建立联系。该项在论据“鸚鵡嘴龙的颜色”和论点“鸚鵡嘴龙居住在森林里”之间建立了联系,具有加强作用。

B项:不明确项。该项指出大部分恐龙生活在森林里,但不能必然证明鸚鵡嘴龙居住在森林里,不具有加强作用。

C项:无关选项。该项指出发现恐龙化石的地区推测该出曾有大片的森林,但不能必然证明鸚鵡嘴龙居住在森林里,不具有加强作用。

D项:无关选项。该项指出鸚鵡嘴龙腹部颜色的作用,与论点鸚鵡嘴龙是否居住在森林中无关,论题不一致,不具有加强作用。

因此,选择A选项。

79. B [解析] 第一步,确定题型。根据提问方式中的“不能支持”,确定为加强论证选非题。第二步,找论点和论据。论点:食用粗粮有助于身体健康。论据:研究小组发现,经常食用诸如麦片、糙米、玉米和藜麦等粗粮的志愿者生病和死亡比例比不食用者低,尤其是患血管疾病的比例更低。

第三步,辨析选项。

A项:增加论据。该项指出粗粮是“最佳早餐”,而且对于“运动员、减肥人士”这类更需要健康的人群而言,故说明食用粗粮有助于身体健康,具有加强作用。

B项:无关选项。该项只是指出粗粮是很多国家老百姓的主食,但是与是否对身体健康无关,不具有加强作用。

C项:增加论据。该项指出很多医学典籍中记载了食用粗粮能治病,说明粗粮有助于身体健康,具有加强作用。

D项:增加论据。该项指出经常食用粗粮有助于降低罹患肥胖症的风险,说明食用粗粮有助于身体健康,具有加强作用。

因此,选择B选项。

80. C [解析] 第一步,确定题型。题干具有匹配特征,确定为分析推理。第二步,分析条件,进行推理。已知“老鼠正上方有只黄鹂”,“狗的正上方有只喜鹊”,再结合“狗在老鼠右边”可知:黄鹂的右边是喜鹊。因此,选择C选项。

81. C [解析] 第一步,确定题型。根据提问方式中的“削弱”,确定为削弱论证。第二步,找论点和论据。论点:从4月1日起,北京市民将再次面临“叫车难”的问题。论据:3月20日,某网约车公司对北京三环内非京牌车辆停止派单,9天后,该公司又在客户端上给司机发出了一则通知,宣布从4月1日起将在全北京范围内停止向非京牌车辆派单。

第三步,辨析选项。

A项:无关选项。该项只是指出停止向非京牌车辆派单能在一定程度上缓解交通拥堵,但是与能否造成“叫车难”无关,论题不一致,排除。

B项:增加论据。该项指出外地牌照车辆占比较高,故采取了多项措施后会导致“叫车难”的问题,具有加强作用。

C项:增加反向论据。该项指出网约车公司将会采取多种措施以提高叫车的效率,因此说明即使停止向非京牌车辆派单,也不一定会造成“叫车难”的问题,具有削弱作用。

D项:无关选项。该项只是指出“京人京牌”并且符合细则规定的网约车司机对未来充满了期待,但是与能否造成“叫车难”无关,论题不一致,排除。

因此,选项C选项。

82. A [解析] 第一步,确定题型。根据提问方式中的“削弱”,确定为削弱论证。第二步,找论点和论据。论点:受凉才是导致感冒的根本原因。论据:无。

第三步,辨析选项。

A项:增加反向论据。人体缺水之后,更易受凉,受凉导致感冒。说明人体缺水是导致感冒的根本原因,削弱了反对者的论点,具有削弱作用。

B项:无关选项。感冒通常伴随发烧,而发烧会导致缺水、怕冷,并没有说明受凉与感冒之间的关系,论题不一致,排除。

C项:无关选项。即使没有受凉,人体缺水之后也会出现很多类似感冒的症状,并没有说明受凉是导致感冒的根本原因,论题不一致,排除。

D项:增加论据。指出受凉之后,导致人体缺水,抵抗力下降,从而引发感冒,具有加强作用。

因此,选择A选项。

83. B [解析] 第一步,确定题型。根据提问方式中的“支持”,确定为加强论证。第二步,找论点和论据。论点:如果国家增加专利技术宣传推广的补贴,那么将有力增强整个社会的创新能力。可翻译为:增加专利技术宣传推广的补贴→社会的创新能力越强。论据:(1)如果专利技术的宣传推广有足够的资金支持,那么专利技术的拥有者将更加关注其专利技术的宣传推广工作。可翻译为:足够的资金支持→关注专利技术宣传推广;(2)专利技术宣传推广得越充分,其转化为专利产品、创造价值的可能性也就越大,整个社会的创新能力也将得到进一步提高。

第三步,辨析选项。

A项:无关选项。该项指出专利技术转换为产品后所带来的收益尚不足以支付其宣传推广费用,与是否提高社会创新能力无关,论题不一致,排除。

B项:建立联系。该项指出“越关注专利技术宣传推广→宣传推广越充分”,能够建立论据

和论点之间的关联,具有加强作用。

C项:不明确项。该项指出“不增加专利技术宣传推广的补贴”将会有什么后果,无法必然推知“增加专利技术宣传推广的补贴”后的结果,不具有加强作用。

D项:不明确项。该项指出“专利技术拥有者不关注宣传推广工作”将会有什么后果,无法必然推知“增加专利技术宣传推广的补贴”后的结果,不具有加强作用。

因此,选择B选项。

84. C [解析] 第一步,确定题型。根据题干关联词“如果……那么……”,确定为翻译推理。第二步,翻译题干。①甲不喜欢徒步;甲和乙结伴→打乒乓球;②跳绳比徒步效果好→乙跳绳;③丙不徒步→预报有雾霾;④乙和丙休息时间一致→结伴徒步。

第三步,辨析选项。

A项:甲和丙跳绳,说明“丙不徒步”,是对③的“肯前”,根据“肯前必肯后”可得“预报有雾霾”,而该项是“室外有雾霾”,内容不一致,排除;

B项:三人都徒步,说明“乙不跳绳”,是对②的“否后”,根据“否后必否前”,可得“徒步不比跳绳效果好”,无法推出该项,排除;

C项:三人都不徒步,说明“乙和丙没有结伴徒步”,是对④的“否后”,根据“否后必否前”,可得“乙和丙休息时间不一致”,可以推出;

D项:乙没有选择徒步和跳绳,但并不确定是否会和甲结伴,故无法推知是否和甲一起打乒乓球,无法推出。

因此,选择C选项。

85. D [解析] 第一步,确定题型。根据提问方式中的“支持”,确定为加强论证。第二步,找论点与论据。论点:发达国家近20年来治疗甲状腺肿瘤的病例增多主要是因为过度诊疗。论据:完全切除脖子上的淋巴结或者实施放射疗法,而实际上这些肿瘤大部分是微型乳头状瘤,只需要密切监视,不必立即采取干预性治疗手段。

第三步,辨析选项。

A项:不明确项。该项只是指出过度使用放射疗法会损害人体的免疫系统,但免疫系统被损害是否会导致甲状腺肿瘤病例增多并不确定,不具有加强作用。

B项:无关选项。该项只是指出发达国家“乳腺肿瘤”也存在过度治疗,与“甲状腺肿瘤”是否存在过度治疗无关,论题不一致,排除。

C项:无关选项。该项只是指出完全切除甲状腺不是最佳方式,与甲状腺肿瘤是否存在过度治疗无关,论题不一致,排除。

D项:增加论据。该项指出“不存在过度诊疗,则甲状腺肿瘤的发病率及病死率并没有明显增高”,经过对比的方式说明,过度诊疗是甲状腺肿瘤的病例增多的原因,具有加强作用。

因此,选择D选项。

86. C [解析] 第一步,本题考查增长量计算中的已知现期量与增长率。第二步,定位第一段可知,“2016年4月,保监会机关及各保监局共接收各类涉及保险消费者权益的有效投诉总量为2989件,同比上升43.15%,环比上升24.44%”。第三步, $24.44\% \approx \frac{1}{4}$,根据增长量计算的

$n+1$ 原则,环比增长量为 $\frac{2989}{4+1} = \frac{2989}{5}$,直除首位商5。因此,选择C选项。

87. A [解析] 第一步,本题考查简单计算中的和差类。第二步,定位第一段可知“2016

年4月,接收保险公司投诉中……涉嫌保险公司违法违规类投诉259件”,定位第二段可知“2016年4月,人身险公司的投诉为1470件……人身险涉及保险合同纠纷的投诉有1281件”。第三步,根据材料可获知:保险公司投诉=财产险公司投诉+人身险公司投诉=合同纠纷类投诉+违法违规类投诉,则人身险公司违规类投诉=人身险公司投诉-人身险公司合同类投诉=1470-1281,因此,涉及财产险公司违法违规类的投诉=保险公司总违法违规类投诉-人身险公司违法违规类投诉=259-(1470-1281)=70(件)(也可以直接看尾数,尾数为0)。因此,选择A选项。

88. A [解析] 第一步,本题考查现期比重计算中的求部分量。第二步,定位第二段,“2016年4月,财产险公司的投诉为1510件。其中,投诉量位居前10的财产险公司的投诉总和占所有财产险公司投诉总量的78.68%”。第三步,根据部分量=整体量×比重,则有 $1510 \times 78.68\%$,乘法计算考虑放缩,答案应低于 $1510 \times 80\% = 1208$ (件),仅A选项符合。因此,选择A选项。

89. B [解析] 第一步,本题考查现期比重计算中的求比重。第二步,定位第一段可知,“2016年4月,保监会机关及各保监局共接收各类涉及保险消费者权益的有效投诉总量为2989件”,定位第二段可知“2016年4月,人身险涉及保险合同纠纷的投诉有1281件,其中销售纠纷481件,理赔纠纷357件,保全纠纷237件”。第三步,根据比重=部分量/整体量,选项首位不同,可将分母从左向右截取前两位,并保留量级,分子位数不多,不再截位,则占比为 $\frac{357+237}{3000} = \frac{594}{3000} \approx 20\%$,即占比为两成。因此,选择B选项。

90. D [解析] 第一步,本题考查综合分析,且需选出正确的一项。

第二步,A选项,增长量计算。定位第一段可知,“2016年4月,保监会机关及各保监局共接收各类涉及保险消费者权益的有效投诉总量为2989件,同比上升43.15%”。 $43.15\% \approx \frac{1}{2.3}$,根据增长量计算的n+1原则,同比增长量为 $\frac{2989}{2.3+1} = \frac{2989}{3.3} < 1000$ (件),(或者 $43.15\% < \frac{1}{2}$,则增长量 $< \frac{2989}{2+1} < 1000$ 件),错误。

B选项,求比重。定位第一、二段可知,“2016年4月,保监会机关及各保监局共接收各类涉及保险消费者权益的有效投诉总量为2989件,同比上升43.15%……财产险公司的投诉为1510件”。 $1510 > 2989 \times 50\%$,故占比超过一半,错误。

C选项,求比重。定位第一段可知,“2016年4月,保监会机关及各保监局共接收各类涉及保险消费者权益的有效投诉总量为2989件……涉及保险合同纠纷类投诉2721件”, $2721 > 2989 \times 90\%$,故占比超过九成,错误。

D选项,现期倍数计算。定位第二段可知,“2016年4月,人身险涉及保险合同纠纷的投诉有1281件,其中销售纠纷481件,理赔纠纷357件,保全纠纷237件”, $481 > 237 \times 2$,故销售纠纷投诉量超过保全纠纷投诉量的2倍,正确。

因此,选择D选项。

91. B [解析] 第一步,本题考查和差比较问题。第二步,定位表格材料。第三步,各地区拥有2处及以上住房=拥有2处住房+拥有3处及以上住房,则各地区拥有2处及以上住房占比分别为,东部: $15.6\% + 1.4\% = 17\%$;中部: $11\% + 0.7\% = 11.7\%$;西部: $9.2\% + 0.5\% = 9.7\%$;东北: $5\% + 0.3\% = 5.3\%$,则从高到底排序为东部、中部、西部和东北。因此,选择B

选项。

92. A [解析] 第一步, 本题考查现期比重计算中求部分量问题。第二步, 定位文字材料“2016 年末全国 23027 万农户”和表格材料。第三步, 根据部分量=整体量×比重, 整体量一致, 部分量之和=整体量×比重之和, 可得 2016 年末全国居住在钢筋混凝土和砖混结构房屋中的农户人数为 $23027 \times (12.5\% + 57.2\%) = 23027 \times 69.7\% \approx 23027 \times 70\% = 16118.9$ (万户) ≈ 1.6 (亿户)。因此, 选择 A 选项。

93. C [解析] 第一步, 本题考查现期倍数计算问题。第二步, 定位图形材料。第三步, 根据整体量=部分量/比重, 数据本身不大, 直接代入计算, 可得 2016 年末, 中部地区农户数与东北地区农户数的倍数关系为: $\frac{557}{8.1\%} \div \frac{96}{7.4\%} = \frac{557}{96} \times \frac{7.4\%}{8.1\%} \approx 5.8 \times 0.9 \approx 5.2$, 与 C 最接近。因此, 选择 C 选项。

94. B [解析] 第一步, 本题考查读数比较问题。第二步, 定位表格和图形材料。第三步, 2016 年末, 拥有商品房的农户数量第二的地区为西部地区, 其居住在砖(石)木结构住房中的农户占比为 30.9%, 仅低于东北地区(42.5%), 则排名第二。因此, 选择 B 选项。

95. C [解析] 第一步, 本题考查综合分析问题, 且需选出正确的一项。

第二步, A 选项, 求整体量, 定位图形材料。根据整体量=部分量/比重, 可得西部地区农户数为 $\frac{577}{8.0\%}$, 中部地区为 $\frac{557}{8.1\%}$, 根据分数性质(分子大分母小的分数值大)可得西部 > 中部, 错误。

B 选项, 求单平均数, 定位表格材料。中部地区拥有 3 处及以上住房的占比为 0.7%, 相当于每 100 个农户中, 有 0.7 个拥有 3 处及以上住房, 则不可能出现每 70 个农户中, 就有 1 个以上拥有 3 处及以上住房的情况, 错误。

C 选项, 极值类, 定位表格材料。根据材料可知, 东北地区拥有 1 处住房的占比为 93.9%, 拥有砖混结构住房的占比为 47.8%, 既符合 1 处又符合砖混结构住房的占比至少为 $93.9\% + 47.8\% - 1 = 41.7\%$, 超过 4 成, 正确。

D 选项, 读数比较, 定位表格材料。砖混住房占比最高的地区为中部地区, 钢筋混凝土住房占比最高的地区为东部地区, 并非同一个, 错误。

因此, 选择 C 选项。

96. C [解析] 第一步, 本题考查基期量和差计算。第二步, 定位表格材料。第三步, 根据基期量=现期量/(1+增长率)以及 2017 年 3 月的数据=2017 年 1 季度数据-2017 年 1—2 月份数据, 可得 2017 年 3 月我国多功能乘用车(MPV)的产量为 $55.5 - \frac{29.3}{1-16.6\%} \approx 55.5 - 35.1 = 20.4$ (万辆), 在 18—23 万辆之间。因此, 选择 C 选项。

97. C [解析] 第一步, 本题考查增长率计算。第二步, 定位表格材料。第三步, 根据 2018 年一季度数据=2018 年 1—2 月份数据+2018 年 3 月数据, 可得 2018 年一季度我国乘用车产量=377+212=589 (万辆) < 610.7 (万辆), 下降, 排除 A、B 选项。根据增长率=(现期量-基期量)/基期量, 数据本身不大, 将其取整处理, 则所求增长率约为 $\frac{589-611}{611} = \frac{-22}{611} \approx -3.6\%$, 即下降了不到 5%。因此, 选择 C 选项。

98. B [解析] 第一步, 本题考查基期倍数计算。第二步, 定位表格材料。第三步, 根据基期倍数计算公式 $\frac{A}{B} \times \frac{1+b}{1+a}$, 复杂计算将数据取整处理, 可得 $\frac{239}{55} \times \frac{1-17.4\%}{1+22\%} = \frac{239}{55} \times \frac{82.6}{122} =$

$$\frac{239}{122} \times \frac{82.6}{55} \approx 2 \times 1.5 = 3, \text{与 B 选项最接近。}$$

因此,选择 B 选项。

99. A [解析] 第一步,本题考查现期比重比较。第二步,定位表格材料。第三步,根据材料可知,2018 年 1—2 月,轿车产量为 174.9 万辆,多功能乘用车(MPV)产量为 29.3 万辆,运动型多用途乘用车(SUV)产量为 167.3 万辆,交叉型乘用车产量为 5.4 万辆。观察发现,有两个占比特别大,两个占比较小,排除 B、C 选项。又发现多功能乘用车(MPV)产量(29.3 万辆)是交叉型乘用车产量(5.4 万辆)的 5 倍多,排除 D 选项。因此,选择 A 选项。

100. A [解析] 第一步,本题考查综合分析问题,且需选出正确的一项。

第二步,A 选项,增长量计算。定位表格材料。根据增长量计算 $n+1$ 原则,2017 年一季度轿车销量增长率 $= 0.8\% = \frac{1}{125}$,可得 2017 年一季度轿车销量增长量约为 $\frac{284}{125+1} = \frac{284}{126} > 2$ (万辆),正确。

B 选项,平均数计算。定位文字材料和表格材料,“2017 年全年,我国乘用车产量为 2483.1 万辆”。根据平均数 $=$ 总数/总个数,则 2017 年全年我国乘用车各季度产量平均约为 $\frac{2483.1}{4} \approx 620.8$ (万辆) > 610.7 (万辆),错误。

C 选项,直接读数。定位表格材料,发现 2017 年一季度,轿车产量(291.3 万辆) $>$ 销量(284.0 万辆);多功能乘用车产量(55.5 万辆) $>$ 销量(55.3 万辆);运动型多用途乘用车产量(249.5 万辆) $>$ 销量(238.6 万辆);交叉型乘用车产量(14.5 万辆) $<$ 销量(16.9 万辆),产量大于销量的有 3 个,总数为 4 个,占比超过一半,错误。

D 选项,增长量计算。定位表格材料,根据增长量计算 $n+1$ 原则,2017 年一季度运动型多用途乘用车(SUV)产量增长率 $= 27.5\% \approx \frac{1}{3.5} (\frac{1}{4} = 25\% < 27.5\% < 33\% \approx \frac{1}{3})$,可得 2017 年一季度运动型多用途乘用车(SUV)产量增长量约为 $\frac{249.5}{3.5+1} = \frac{249.5}{4.5} \approx 55$ (万辆) > 50 (万辆),错误。

因此,选择 A 选项。