

## 2019年天津市公安机动勤务中心笔试真题

### 第一部分 数量关系

(共 10 题，参考时限 15 分钟)

在这部分试题中，每道题呈现一段表述数字关系的文字，要求你迅速、准备地计算出答案。

请开始答题：

1. 任意取一个大于 50 的自然数，如果它是偶数，就除以 2；如果它是奇数，就将它乘 3 之后再加 1。这样反复运算，最终结果是多少？

- A. 0  
B. 1  
C. 2  
D. 3

2. A、B 两辆列车早上 8 点同时从甲地出发驶向乙地，途中 A、B 两列车分别停了 10 分钟和 20 分钟，最后 A 车于早上 9 点 50 分，B 车于早上 10 点到达目的地。问两车平均速度之比是多少？

- A. 1: 1  
B. 3: 4  
C. 5: 6  
D. 9: 11

3. 一环形跑道上画了 100 个标记点，已知相邻任意两个标记点之间的跑道距离相等。某人在环形跑道上跑了半圈，问他最多能经过几个标记点？

- A. 49  
B. 51  
C. 50  
D. 100

4. 254 个志愿者来自不同的单位，任意两个单位的志愿者人数之和不少于 20 人，且任意两个单位的志愿者人数不同。问这些志愿者所属的单位数最多有几个？

- A. 17  
B. 15  
C. 14  
D. 12

5. 单独完成某项工作，甲需要 16 小时，乙需要 12 小时，如果按照甲、乙、甲、乙……的顺序轮流工作，每次 1 小时，那么完成这项工作需要多长时间？

- A. 13 小时 40 分钟  
B. 13 小时 45 分钟  
C. 13 小时 50 分钟  
D. 14 小时

6. 一条路上依次有 A、B、C 三个站点，加油站 M 恰好位于 A、C 的中点，加油站 N 恰好位于 B、C 的中点，若想知道 M 和 N 两个加油站之间的距离，只需知道哪两点之间的距离？

- A. CN  
B. BC  
C. AM  
D. AB

7. 某单位招待所有若干间房间，现在安排一支考察队的队员住宿，若每间住 3 人，则有 2 人无房可住；若每间住 4 人，则有一间房间不空也不满，则该招待所的房间最多有：

- A. 4 间  
B. 5 间  
C. 6 间  
D. 7 间

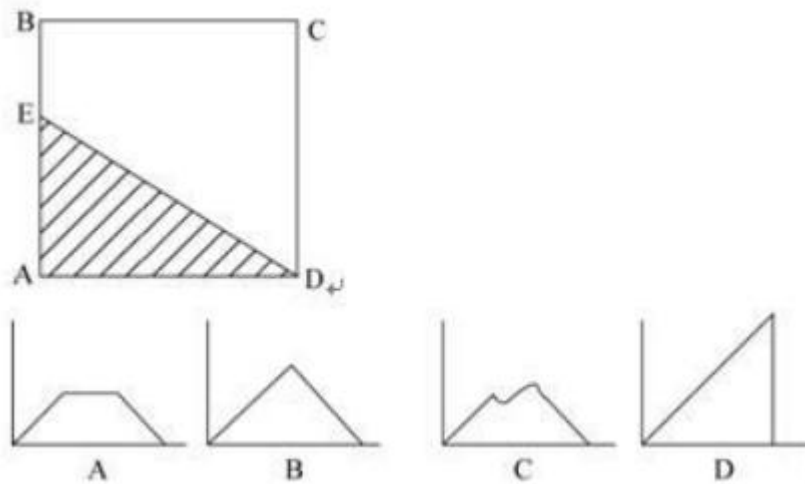
8. 把一个正四面体的每个表面都分成 9 个相同的等边三角形，用任意颜色给这些小三角形上色，要求有公共边的小三角形颜色不同，问最多有多少个小三角形颜色相同？

- A. 15  
B. 12  
C. 16  
D. 18

9. 甲、乙两个相同的杯子中分别装满了浓度为 20% 和 30% 的同种溶液，将甲杯中倒出一半溶液，用乙杯中的溶液将甲杯加满混合，然后再将甲、乙两杯中的溶液全部倒入一杯清水中且未溢出，溶液浓度变为 20%。如该溶液比重与水完全相同，问原甲杯中溶液的质量是这杯清水的质量的多少倍？

- A. 3  
B. 4  
C. 5  
D. 6

10. 如下图，正方形 ABCD 边长为 10 厘米，一只小蚂蚁 E 从 A 点出发匀速移动，沿边 AB，BC，CD 前往 D 点。问哪个图形能反映三角形 AED 的面积与小蚂蚁移动时间的关系？



※※※第一部分结束，请继续做第二部分！※※※

## 第二部分 言语理解与表达

(共 35 题，参考时限 35 分钟)

本部分包括表达与理解两方面的内容。请根据题目要求，在四个选项中选出一个最恰当的答案。

请开始答题：

11. 中国互联网发展的过程中，“鼓励原创”的版权意识与互联网的免费共享精神，一直在\_\_\_\_\_中牵绊着发展。当众多网友对网络“免费午餐”津津乐道时，损害的却是创造者的创作热情以及出版业的长远发展。填入划横线部分最恰当的一项是：

- A. 逆境
- B. 竞争
- C. 矛盾
- D. 挑战

12. 对互联网企业来讲，从用户那里收集到的信息主要包括消费习惯、行为特征、个人数据等。企业可以通过收集这些信息去开展大数据分析，进一步挖掘用户的潜在消费能力和更\_\_\_\_\_的价值，从而为用户提供更具\_\_\_\_\_的服务。依次填入划横线部分最恰当的一项是：

- A. 市场化 独创性
- B. 多元化 针对性
- C. 智能化 实用性
- D. 规模化 多样性

13. 宜居带是指一颗恒星周围一定距离的范围，在这一范围内水可以以液态形式存在。由于液态水被科学家认为是生命生存\_\_\_\_\_的元素，因此如果一颗行星恰好落在这一范围内，那么它就被认为有更大的\_\_\_\_\_拥有生命或至少拥有生命可以生存的环境。依次填入划横线部分最恰当的一项是：

- A. 缺一不可 范围
- B. 举足轻重 条件
- C. 至关重要 优势
- D. 必不可少 机会

14. 在这个时代，人与人之间虽然在空间和情感上越来越\_\_\_\_\_，但是每个人的利益却又\_\_\_\_\_地与他人的利益和行为紧密地联系在一起。这促成人们主动参与公共事务，呼吁维护公共利益。依次填入划横线部分最恰当的一项是：

- A. 冷漠 无孔不入
- B. 疏离 前所未有
- C. 隔绝 迫不得已
- D. 封闭 始料未及

15. 日前，被称为“法国大展”的“名馆名家名作”纪念中法建交 50 周年特展在国家博物馆展出。这是一次重量级的展览，10 幅名作都是从法国各大国立博物馆\_\_\_\_\_的精品之作，\_\_\_\_\_了法国从文艺复兴到当代的艺术精华。依次填入划横线部分最恰当的一项是：

- A. 精挑细选 再现
- B. 沙里淘金 展现
- C. 百里挑一 融合
- D. 优中选优 浓缩

16. 在人类文明史上，古埃及人和两河流域的苏美尔人，都曾创造过古老的文字。然而，随着时间的流逝，这些文字早已消亡。时至今日，\_\_\_\_\_的古老文字，唯有中国人创立的汉字。作为伟大的汉文化的载体和媒介，汉字依然\_\_\_\_\_，堪称当今世界上最有生命力的文字之一。依次填入划横线部分最恰当的一项是：

- A. 硕果仅存 长盛不衰
- B. 凤毛麟角 源远流长
- C. 出类拔萃 博大精深
- D. 鹤立鸡群 方兴未艾

17. 暗物质是最大的谜团之一，不过一旦天文学家接受其存在，很多其他宇宙难题便可\_\_\_\_\_。例如，暗物质似乎能解释为何银河系的盘状结构边缘存在如此大的扭曲。虽然围绕银河系运行的星系会对银河系产生扰动，但如果没有暗物质的放大作用，它们微弱的引力效应对银河系也是\_\_\_\_\_。依次填入划横线部分最恰当的一项是：

- A. 举一反三 望尘莫及
- B. 迎刃而解 鞭长莫及
- C. 拨云见日 爱莫能助
- D. 昭然若揭 无能为力

18. 研究表明，大脑具有自我修复的潜能，继续\_\_\_\_\_这方面的研究，有望最终确认

哪些信号可用来促进神经源性反应的\_\_\_\_\_，而以\_\_\_\_\_神经发生（即神经元的生成和更新）现象为目标，或可成为一种促进神经元再生的有效治疗方法。依次填入画横线部分最恰当的一项是：

- A. 增强 强化 加强  
B. 强化 加强 增强  
C. 加强 增强 强化  
D. 增强 加强 强化

19 法治和礼治发生在两种不同的社会\_\_\_\_\_中。这里所谓的礼治也许就是通常所谓的人治，但是“礼治”一词不会像“人治”一词那样容易引起\_\_\_\_\_，以致有人觉得社会秩序是可以由个人好恶来维持的了。依次填入划横线部分最恰当的一项是：

- A. 形态 歧义  
B. 模式 偏差  
C. 情态 误解  
D. 形势 干扰

20. 当企业的业务都实现计算机化后，那些从事计算机业务的企业却遭遇了\_\_\_\_\_。如果需要计算机化的业务流程没有增加，顾客对性能没有特别需求，他们就无法继续\_\_\_\_\_自己的产品。所以，所有与计算机相关的企业，都必须为已经得到满足的顾客们，提供一个购买他们更新技术的\_\_\_\_\_。依次填入横线部分最恰当的一项是：

- A. 瓶颈 销售 理由  
B. 阻碍 生产 方法  
C. 困境 改进 渠道  
D. 障碍 推广 优惠

21. 《自私的基因》出版于1976年，但这本书的魅力、争议和影响力却\_\_\_\_\_。有趣的是，这本书初版时学界还有反对之声，公众则高高兴兴地\_\_\_\_\_了它。几十年过去，书中理论在学界争议越来越少，公众反而\_\_\_\_\_般开始担忧这本书“太过极端”。依次填入画横线部分最恰当的一项是：

- A. 大放异彩 接收 恍如隔世  
B. 历久弥新 接纳 醍醐灌顶  
C. 如日中天 接手 茅塞顿开  
D. 与日俱增 接受 如梦初醒

22. 在西班牙，“慢食”一直是在人们头脑中\_\_\_\_\_的饮食观念。与“慢食”一脉相承的是西班牙人“慢生活”的态度：大厦电梯里面没有关门按键，大家都是等待电梯门缓缓关上；和午餐相伴的还有午睡，尤其在西班牙南部最为炎热的地方，小店业主都会在14点到17点之间关门，那是他们\_\_\_\_\_的午休时段。依次填入划横线部分最恰当的一项是：

- A. 嗤之以鼻 板上钉钉  
B. 坚不可摧 不可更改  
C. 积重难返 翘首以待  
D. 根深蒂固 雷打不动

23. 自从1964年我国开始杂交水稻研究以来，很多研究者对杂交水稻的探索\_\_\_\_\_，

1981年，有研究者提出了利用自然两用系的设想，即在长日高温条件下制种，短日低温下繁种，一系两用。到2010年底，我国共有427个两系杂交水稻通过省级或国家的品种鉴定。

因此，在我国发展两系杂交水稻已是\_\_\_\_\_。依次填入画横线部分最恰当的一项是：

- A. 如日中天 重中之重
- B. 独领风骚 势不可挡
- C. 方兴未艾 一往无前
- D. 和而不唱 大势所趋

24. 黄河下游原来是绕山东丘陵之南注入黄海的。后来，由于中游的黄土高原不断\_\_\_\_\_，下游的广大平原又不断沉降，黄土不断受到侵蚀，\_\_\_\_\_泥沙滚滚流入黄河。

到了下游，水中的泥沙逐渐淤积，河床不断抬高，遇到汛期，便会漫溢泛滥，出现改道的现象。依次填入横线部分最恰当的一项是：

- A. 降低 含有
- B. 抬升 挟带
- C. 下降 大量
- D. 升高 掺杂

25. 经济全球化促使世界主要国家实力对比关系发生深刻变化，出现强与弱、盛与衰的实力转换，国际角色与位序的\_\_\_\_\_，最终会导致国际社会中的权力分配结构产生调整。

同时，彼此间的机制化、制度化、常态化的\_\_\_\_\_与相互协调已经成为处理国家间关系、解决国家间经济利益矛盾的主要方式。依次填入划横线部分最恰当的一项是：

- A. 善变 对话
- B. 演变 商榷
- C. 嬗变 磋商
- D. 变迁 协商

26. “师者，人之模范也。”若要育人，先要律己。教师的职业特性，决定了合格的老师必须首先在道德上率先垂范。作为教师，如果身在课堂却心在商场或官场，在金钱、物欲、名利同人格的较量中把握不住自己，在是非、曲直、善恶、义利、得失等方面出现偏差，如何能担负起立德树人的重任呢？现实中，一些地方和学校加大对违规行为的查处力度，起到了良好的警示作用，得到了社会的广泛支持。如果给这段话加一个标题，最合适的是：

- A. 为师者必人之模范
- B. 为师者必须以德为先
- C. 为师者为教育之本
- D. 为师者必为人尊敬

27. 汉语博大精深，自成一体，在表达上有简洁、生动，意蕴深长的特点。不说古诗词，单说日常用语就是如此。比如，单就一个“笑”字，就有前仰后合的大笑、勉为其难的苦笑、忍俊不禁的微笑、尖酸刻薄的嘲笑等区分，仅形容笑声就有“哈哈”“嘻嘻”“嘿嘿”“咯咯”“呵呵”“扑哧”等区别。可以说，\_\_\_\_\_，反映着多彩生活。最适合填入空白处的是：



- A. 汉语的博大精深是独一无二的      B. 汉语的丰富多彩是无与伦比的  
C. 多样的表达折射出多重情感      D. 网络语言丰富了人们的表达方式

28. 优化营商环境不仅关乎市场生态，更涉及政府监管机制的深层变化。政府既要做好“放”的减法，把不该管和管不好的交给市场，也要做好“管”的加法，把政府该做的事情做好。“放”与“管”的加减法，实际上是处理好政府和市场关系的辩证法，“使市场在资源配置中起决定性作用，更好发挥政府作用”。从更大的视野来看，在加强服务和监管上做加法，归根到底都是为了激发市场活力的乘数效应，让市场主体的创新潜力充分涌流，推动经济实现高质量发展。下列说法与这段文字不符的是：

- A. 优化营商环境需要变革政府监管机制  
B. 政府把该做的事做好才能激发市场活力  
C. 优化营商环境是实现可持续发展的制度性安排  
D. 做好“减法”才能解决政出多门、推诿扯皮的顽疾

29. 创新越是发展，就越需要一个良好生态。有人用比喻来形容创新：“青藏高原上才能有珠穆朗玛峰”。意思是说，只有在创新高原上才能产生创新高峰，只有在良好的生态下才能让创新者脱颖而出。也正因此，代表和委员们提出，改变“创新孤岛”“激发全社会创新活力，让创新在全社会蔚然成风”。为创新营造一个良好的生态，才能让各类创新主体的活力竞相迸发、让创新源泉充分涌流，形成百舸争流、千帆竞发的大好局面。这段文字意在强调：

- A. 良好的生态才能让创新者脱颖而出  
B. 创新离不开改革  
C. 创新是引领发展的第一动力  
D. 创新成为实现中国梦的加速器

30. “环球同此凉热”，没有哪个国家可以成为风景独好的孤岛。有专家指出，热带雨林消失的生态影响难以靠其他地方的绿化来弥补。所以，植绿不是“单边行动”，还得依靠“集团作战”。作为国际合作的推动者，2017年，中国推动建立了“一带一路”防治荒漠化合作机制，共建绿色丝绸之路。从“牢记使命、艰苦创业、绿色发展”的塞罕坝精神，到政府、企业、农牧民、科技四轮驱动的库布其模式，中国智慧“为全球生态文明建设带来希望之光”。下列说法与这段文字不符的是：

- A. 全球绿化需要世界各国的参与

- B. 热带雨林对生态的影响是最为关键的
- C. 保护生态环境是全球面临的共同挑战和责任
- D. 中国以自己的成功实践树立了“绿色样板”

31. 古语有云，“慎终追远，民德归厚矣”。作为文化的重要载体，传统节日集中体现了中华民族的传统信仰、伦理道德、价值观念、行为规范等。我们在端午节纪念 2000 多年前的爱国者屈原，就是为了忆念其伟大，传承其精神。又因为农历五月是仲夏，第一个午日正是登高顺阳的好日子，故五月初五也被称为“端午节”。这些丰富的历史意义、文化意涵，赋予中华民族传统节日以巨大魅力，并以潜移默化的方式，将中华民族的精神操守、道德力量根植人心。然而，包括端午节在内的许多传统节日的内涵一度被人们淡忘，不少人索性将端午节称为“粽子节”，仿佛节日除了吃粽子再无别的含义。这段文字接下来最应当探讨并解决的问题是：

- A. 怎样重拾传统文化
- B. 怎样才能给端午节赋予更强的传统文化内涵
- C. 怎样过节才是对中华民族传统信仰的传承
- D. 怎样才能让人们更好地体验传统节日背后的传统文化

32. 前不久，有外媒文章观察到，春节期间，出境游的中国游客对“爆买”少了几分热情。文章站在当地百货商场的角度作出判断，“中国游客把钱包攥得更紧了”。这样的判断，可能只是个误解。一方面，中国关税总水平去年从 9.8% 降至 7.5%，通过电商实现全球购，对于大多数中国人而言，早已不是什么稀罕事。另一方面，也正是因为开放，让中国企业看到了差距，找到了消费需求，进而促使中国企业苦练内功，提供更加优质的产品，让中国老百姓有了更多的选择。既能满足人民群众对美好生活的需要，又能促使企业提升自身实力，中国没有理由不继续扩大对外开放。这段文字意在强调：

- A. 中国的关税水平不断下降
- B. 发展需要进一步开放
- C. 出境游的中国旅客不再热衷“爆买”
- D. “中国制造”的质量越来越得到人们的认可

33. 正是因为跟上了时代发展的步伐，网络文学才获得了更大的发展空间。从近 5 年的作品来看，那些阅读量和评论量巨大的作品，有不少都是弘扬家国情怀、彰显奋斗精神、书写人间真情的，作品所体现的历史观、民族观、国家观都是正确而为社会大众所认同的。网



络文学创作者对主流价值观的认同、向中华文化的回归、对时代精神的回应，正在从不自觉走向自觉，他们的作品也因此赢得了更广泛的读者。“大浪淘沙始见金”，时代潮流滚滚向前，那些与时代同行的作品与创作者最终走向了无比广阔的大海。这段文字意在说明：

- A. 网络文学的题材越来越丰富
- B. 网络文学要与时代同行
- C. 网络文学作者水平不断提高
- D. 网络文学的思想性和艺术性不断提高

34. 纵横当有凌云笔。追求改革的“集成效果”、实现发展的“叠加效应”，关键办法是善于在具体工作中“左右逢源”——这个“逢源”不是投机取巧的招数，而是要用好高质量发展发展的动力之源，用好区域战略的畅通之源，更深拓展中国经济的发展新空间，进一步增强中国经济发展的信心和底气。激活动力之源，必须紧紧扣住高质量发展的根本要求，健全各类经济政策协调机制，推动新旧动能转换；疏浚畅通之源，必须努力完成区域发展战略的具体部署落实，统筹全局、整体推进，结合实际、突出重点，各安其位、各负其责。归结起来，就是要求各级领导干部掌握“转盘子”的艺术，把制度的优势转化为发展的胜势。如果给本段落加个标题，下列选项中最恰当的是：

- A. 追求改革的“集成效果”
- B. 实现发展的“叠加效应”
- C. 把制度的优势转化为发展的胜势
- D. 学会左右逢源

35. 在大数据、云计算和人工智能技术的支撑下，互联网能够为未成年人打开一扇新的窗口。利用网络，远程医疗可以使万里之外的儿童接受顶级医学专家的会诊，直播教学可以使一块屏幕改变偏远地区无数孩子的命运，在线外语课程使得大山里的孩子也有了摆脱“土味外语”的可能。通过智能算法推荐和个性化定制，未成年人可以更便利地获取新闻，欣赏动漫、视频或影视作品，以及表达自我、分享体验。互联网创造了交往、交流、交友的无限空间。但由于未成年人心智尚不成熟，网络沉迷、行为失范、认知缺陷、价值错乱等问题，也使网络上一些色情、暴力等内容得以传播，损害了未成年人的身心健康。有研究显示，网络沉迷、不良信息、网络伤害以及信息泄露是侵害未成年人权益的四大风险。这段文字的大意是：

- A. 在大数据、云计算和人工智能技术的支撑下，未成年人将会接触到更多的新奇事物
- B. 互联网给未成年人带来了方便，也带来了可能损害健康的伤害
- C. 成年人由于心智成熟，与未成年人比起来，在网络面前不太容易沉迷
- D. 互联网使个性化定制成为可能，将带来很多前所未有的新载体，时刻挑战者未成年人的理性

36. 利民之事，丝发必兴；厉民之事，毫末必去。增进民生福祉是发展的根本目的。自2017年起，J市某区组织了83场“周六现场办公”，着力破解项目建设、基层发展、民生工程等难题257项，以硬作风、硬举措推动高质量发展，群众分享到了更多发展红利，每年将新增财力八成以上投向民生领域，全面开展城乡环境秩序集中整治行动，市区一体新建3所义务教育学校……把群众的烦心事、关心事当做大事，聚焦影响群众生活品质的短板，群众才能增加获得感、幸福感。如果给本段落加个标题，最恰当的是：

- A. 真作为才能赢得真满意
- B. 厉民之事，毫末必去
- C. 拿出真心干好事
- D. 恪守为民情怀

37. 从长远看，需要进一步完善我国社会保障体系，特别是儿童大病医保、贫困群众医疗等特殊群体的保障，这是解决因病致贫、因病返贫等问题的根本之道。其次，由于个人救助属于赠与行为，不受慈善法调节，网络众筹容易导致救助资源的不合理分配，应引导和鼓励公众通过慈善组织进行捐赠，利用更科学更公平的制度机制选择需要帮助的对象。最后，也不能因噎废食，网络众筹对于需要紧急救助的个人或家庭来说更为便捷高效。这就意味着，应当加强治理思维，在完善国家的社会保障体系、培育发展慈善组织的基础上，加强大病网络众筹的制度建设。如果给本段落加个标题，最恰当的是：

- A. 大病网络众筹，想说爱你不容易
- B. 让救助事业行稳致远
- C. 完善大病医保体系，事在必行
- D. 依法监管，规范行善

38. 回顾改革开放以来的农村改革历程，从大包干到乡镇企业崛起，从土地流转试水再到特色乡村的遍地开花，正是发端于最基层农村农民的改革实践，让广袤乡村迸发出强大的内生活力。今天的乡村大地上，无论是专业合作社，还是资金互助组，这些农民自己创造的新事物，朝着乡村振兴战略的总目标，汇聚成推动乡村振兴的强大合力。这段文字意在强调：

- A. 农民是乡村振兴的实践主体
- B. 乡村振兴要靠真抓实干
- C. 要激活乡村振兴的内在动力
- D. 乡村振兴有赖于改革创新

39. 家校社合作共育，也是社区相关工作人员学习与成长的过程。家校合作会涉及各个机构的支持与协调，包括政府机关、专业社会组织，以及一些公共服务机构，如图书馆、科技馆、博物馆、少年宫、电影院、医院、商场等。相关人员在工作中可以由学校进行相应的培训，这正是一种相互学习、相互受益的过程。在给孩子的教育提供支撑时，这些公共机构也能为提供更好的公共产品积累经验，增强公共性、公益性。根据该段文字，下列判断错误

的是：

- A. 政府、足球协会、医院都属于家校社合作中的“社”
- B. 社会人员可以通过培训参与到孩子的教育中
- C. 家校社合作是未来教育的重要模式
- D. 社会机构参与孩子的教育可以增强其公益性

40. 趋“利”避“害”是资本的本性，地产商也不例外，所以挂创意之“头”卖地产之“肉”不能仅指责地产商，也在于，如今的创意产业园区进入门槛太低。放眼全国，创意园区遍地开花，其中很多都是“挂羊头卖狗肉”，做些简单但能赚钱的生意，比如搞带点创意色彩的餐饮、服饰、旅游工艺品等等，既没有文化，也没有创意。这段文字主要表明：

- A. 许多创意园区名不副实
- B. 房地产商搞创意园区仅仅是个噱头
- C. 创意园区的发展任重道远
- D. 创意园区的准入门槛应该提高

41. 在经济发展新常态下，农民收入增速放缓，农业结构调整难度加大，放松“三农”工作的倾向有所抬头。我国农业农村发展的内在动因和外部环境正在发生重大而深刻的变化，正进入结构升级、方式转变、动力转换的平台期，“三农”工作到了逆水行舟、爬坡过坎的攻坚期。只有积极进取，农业才能再上新台阶，一旦松劲，就可能陷入停滞徘徊，甚至滑坡倒退。这段文字意在强调：

- A. 我国农业农村发展的外部环境正在发生重大而深刻的变化
- B. 农业农村发展面临着很多困难和挑战
- C. 只有积极进取，农业才能再上新台阶
- D. 我国农业发展面临着机遇与挑战

42. 蓝天保卫战取得明显成绩，但污染治理成果仍不牢固，大气环境形势仍不容乐观。当前，大气污染防治正在爬坡过坎，进入最为吃劲的关键期。这个时候必须保持加强生态环境保护的战略定力，咬住目标，精准施策。国家大气污染防治攻关联合中心的研究成果显示：燃煤、工业、机动车、扬尘是造成京津冀等地秋冬季大气污染的四大污染源，占比达到九成左右。继续针对这些污染源科学施治，猛药去疴，下大气力调整优化产业结构、能源结构、运输结构、用地结构，做好重污染天气条件下的预警应急工作，实施联防联控，蓝天白云才能持续增多。如果给本段落加个标题，最不恰当的是：

- A. 积极打响蓝天保卫战  
B. 大气污染治理势在必行  
C. 大气治理行百里者半九十  
D. 治理污染从污染源切入

43. 经济是肌体，金融是血脉，两者共生共荣。当前，世界经济依旧复杂多变，金融市场动荡加剧，单边主义逆全球化抬头，各类不确定因素有可能诱发货币危机和经济衰退。从内部条件看，微观市场主体处于转型升级、爬坡过坎的关键期，少数领域“资金空转”和“脱实向虚”的风险仍在，金融系统及其与实体企业之间的良性循环，尚待改革攻坚。对此正如习近平总书记强调的，我们要“平衡好稳增长和防风险的关系，精准有效处置重点领域风险”。作者接下来最可能讲述的是：

- A. 经济发展和金融安全的辩证关系  
B. 金融市场存在的不确定性因素  
C. 防范处置金融风险的举措  
D. 推动经济可持续发展的思路

44. 多年来，专家们对经济领域与道德领域的规则讨论从未停止过。不少人认为，经济领域与道德领域的规则不一样，经济领域以取得更大、更多利润为做事原则，而道德领域的原则则是要求奉献、利他、互助等，二者是完全不相融的。其实，经济领域固然有供求关系、利润最大化等规则，但既然它是人们的社会活动，道德原则也会每时每刻渗透其中，两者难以清晰地割裂开来。这段文字意在强调：

- A. 经济领域和道德领域的共同属性很少  
B. 在社会活动中需要兼顾经济原则与道德原则  
C. 社会活动中包括着经济活动  
D. 经济活动中的伦理道德是必然存在的

45. 命运共同体理念的可贵之处，还在于摒弃零和博弈的陈旧思维，展现了超越意识形态和地缘政治的中国智慧。从“历史终结论”“文明冲突论”，渲染颇多的所谓“修昔底德陷阱”到“中国威胁论”，对抗冲突的思维怪圈令世界深受其害，让人们对中国方案更加充满期待。正如英国剑桥大学马丁·雅克教授所说：“中国提供了一种‘新的可能’，这就是摒弃丛林法则、不搞强权独霸、超越零和博弈，开辟一条合作共赢、共建共享的文明发展新道路。这是前无古人的伟大创举，也是改变世界的伟大创造。”这段话的大意应该是：

- A. 命运共同体为人类文明提供了新的发展思路  
B. 命运共同体避免了“历史终结论”“文明冲突论”  
C. 人类应当遵循命运共同体的规律  
D. 中国不搞强权独霸

※※※第二部分结束，请继续做第三部分！※※※



### 第三部分 常识判断

(共 20 题，参考时限 15 分钟)

根据题目要求，在四个选项中选出一个最恰当的答案。

请开始答题：

46. 2019 年 5 月 13 日，总书记习近平主持召开中共中央政治局会议。会议决定从（ ）开始，在全党自上而下分批开展“不忘初心、牢记使命”主题教育活动。

- A. 8 月
- B. 7 月
- C. 6 月
- D. 5 月

47. 关于生活知识，下列说法错误的是：

- A. 缺碘可能会患“大脖子病”
- B. 吃水果有助于补充维生素
- C. 甲醛可以用作药品的防腐剂
- D. 回收废电池可减少重金属污染

48. 关于水稻，下列说法错误的是：

- A. 是一年生的禾本科植物
- B. 大多为自花授粉并结出种子
- C. 中国、印度、日本都是主产国
- D. 淀粉含量是早、中、晚品种的分类标准

49. 假如某国出现比较严重的经济衰退，该国当局却不能运用货币政策进行调节。这个国家可能是：

- A. 德国
- B. 美国
- C. 英国
- D. 新加坡

50. 关于当代文学，下列说法错误的是：

- A. 《白鹿原》获得“茅盾文学奖”
- B. 《平凡的世界》是史铁生的作品
- C. 余华是先锋文学的代表人物之一
- D. 电影《大红灯笼高高挂》由苏童的小说改编

51. 世界银行(英文名称:World Bank)是联合国经营国际金融业务的专门机构,也是联合国的一个下属机构 世界银行由国际复兴开发银行、国际开发协会、国际金融公司、多边投资担保机构和国际投资争端解决中心五个成员机构组成。世界银行成立于( )年,并于( )开始营业。



- A. 1942 1943 年 3 月  
B. 1943 1944 年 4 月  
C. 1944 1945 年 5 月  
D. 1945 1946 年 6 月

52. 周武王时, 联合其他部落讨伐商朝, 经过( )之战, 推翻了商朝, 建立了周朝(约公元前 11 世纪公元前 256 年)。周朝建立后, 分封了大大小小 71 个小国, 这些小国的君王被称为:

- A. 涿鹿 国王  
B. 巨鹿 诸君  
C. 牧野 诸食  
D. 长平 国君

53. 西周前期 180 多年, 中原一带产生了许多大型乐舞。祭祀山川时用的是表现大禹治水的( )舞, 纪念武王伐纣功绩的舞是( )舞。

- A. 《大夏》 《大祭》  
B. 《大风》 《大祭》  
C. 《大夏》 《大武》  
D. 《大风》 《大武》

54. 《论语》是我国先秦时期一部语录体散文集, 主要记载孔子及其弟子的言行, 是由孔子弟子及再传弟子记录编纂而成, 全书( )篇, ( )章。

- A. 10 562  
B. 20 492  
C. 30 612  
D. 40 682

55. 《战国策》是一部古代散文集 由( )整理编订。其记载了战国时期谋臣策士游说各国或互相辩难的言论和行动, 用寓言故事和比喻来说明抽象的道理, 也是一部( )杂史。

- A. 汉代班固 纪传体  
B. 汉代刘向 纪传体  
C. 汉代班固 国别体  
D. 汉代刘向 国别体

56. 胰脏是人体内唯一的一个既是外分泌腺又是内分泌腺的腺体, 一个特殊的脏器。胰的外分泌液或胰液经胰管输入十二指肠, 其中含有各种( )。在胰内另有散在的岛状细胞团, 称为胰岛。胰岛的 $\beta$ -细胞分泌胰岛素, 起( ), 促进肝糖原的合成等作用。

- A. 消化酶 降低血糖  
B. 转氨酶 降胆固醇  
C. 消化酶 降胆固醇  
D. 转氨酶 降低血糖

57. 1978 年开始, 中国进入了改革开放的历史新时期。为了更好地发展我国的经济。1980 年, 国务院设立了四个经济特区。下列选项中, ( )不包含在这四个经济特区中。

- A. 厦门  
B. 宁波  
C. 汕头  
D. 深圳

58. 淋巴(拉丁文:lymph)也叫淋巴液,淋巴管是结构跟静脉相似的管子,分布在全身各部。淋巴在淋巴管内循环,最后流入( ),部分组织液经此流入血液往复循环。淋巴存在于人体的各个部位,对于人体的( )有着至关重要的作用。

- A. 肠道 消化系统
- B. 静脉 消化系统
- C. 静脉 免疫系统
- D. 肠道 免疫系统

我国不仅幅员辽阔,而且地形地貌多种多样。其中,盆地就是我国最主要的地貌之一。下列( )选项不包括在我国四大盆地之中。

- A. 准噶尔盆地
- B. 伊犁盆地
- C. 塔里木盆地
- D. 四川盆地

60 “阿波罗号”宇宙飞船是( )年飞达月球的。它的发射是由“土星5号”火箭来实施的。

- A. 1969
- B. 1967
- C. 1965
- D. 1961

61. 风能是空气流动所产生的动能,是一种清洁环保的能源,越来越受到人们的关注。世界上最早使用风能的国家是:

- A. 古埃及
- B. 中国
- C. 古印度
- D. 希腊

62. 天文学家( )发现了三大行星运动定律,第一和第二定律发表于1609年,是他从天文学家第谷观测火星位置所得资料中总结出来的;第三定律发表1619年。这三大定律又分别称为椭圆定律、面积定律和调和定律。

- A. 张衡
- B. 伽利略
- C. 开普勒
- D. 霍金

63. 下列选项对烹饪方式的解释表达不正确的是:

- A. 焗——利用蒸汽使密闭容器中的食物变熟
- B. 煨——将各种食物混合加水煮
- C. 烩——把饭和各种菜混合在一起烹煮
- D. 焯——把菜肴放在热油里炒到半熟

64. 按照以下历史事件发生的时间,排序错误的一组是:

- A. 商鞅变法——司马迁修《史记》——赤壁之战——贞观之治

- B. 虎门销烟——金田起义——《马关条约》签订——戊戌变法
- C. 北美独立战争——法国热月政变——日本明治维新——英国宪章运动
- D. “九一八”事变——西安事变——卢沟桥事变——皖南事变
65. 秦始皇灭六国后，统一了全国文字。这种文字被称为：
- A. 大篆  
B. 隶书  
C. 籀书  
D. 小篆

※※※第三部分结束，请继续做第四部分！※※※



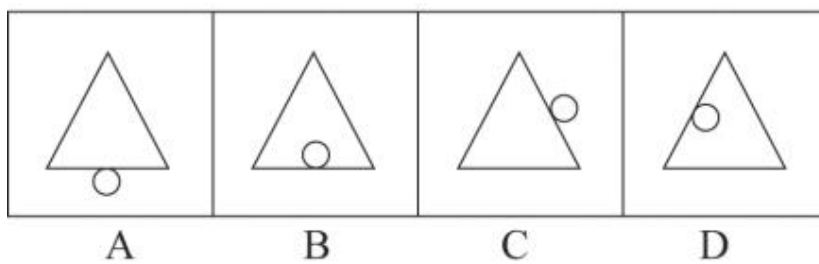

## 第四部分 判断推理

(共 35 题，参考时限 35 分钟)

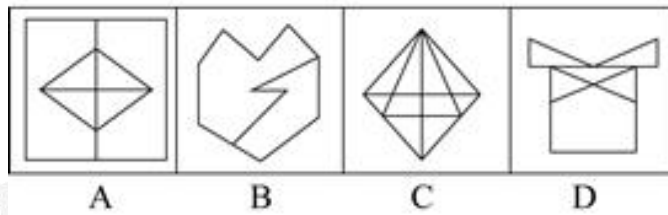

一、图形推理。从所给四个选项中，选择最合适的一个填入问号处，使之呈现一定的规律性：

请开始答题：

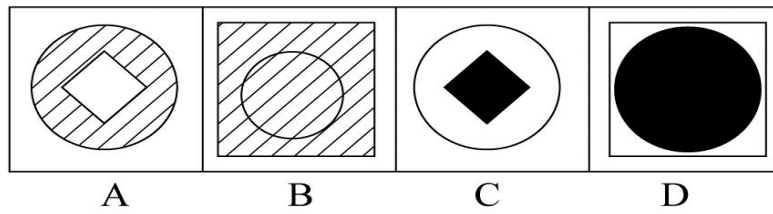
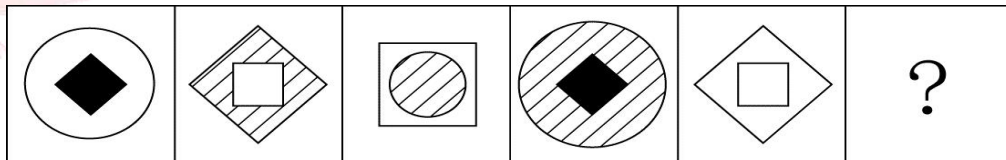
66.



67.



68.




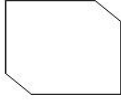
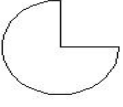
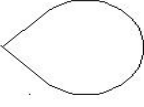


69.

2014	1928	1997	
1900	1949	?	

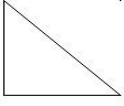
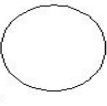
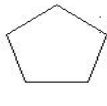
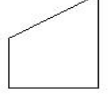
  

1928	2012	1840	2001
A	B	C	D

70.

			
A	B	C	D

SINCE 2001



二、定义判断。每道题先给出定义，然后列出四种情况，要求你严格依据定义，从中选出一个最符合或最不符合该定义的答案。注意：假设这个定义是正确的，不容置疑的。

请开始答题：

71. 化学中的自发反应是指在给定条件下不需要外加能量就能自动进行的反应。在自发反应过程中有可能需要外加能量，但外加能量的目的不是改变“给定条件”，而是维持“给定条件”。根据上述定义，下列不属于自发反应的是：

- A.  $MnO_2$  作催化剂加入  $H_2O_2$  中，发生催化反应，产生  $H_2O$  和  $O_2$
- B. 100kPa 条件下，将  $CaCO_3$  加热到  $900^\circ C$ ，分解生成  $CaO$  和  $CO_2$
- C.  $H_2O$  在通电的情况下产生  $H_2$  和  $O_2$
- D. 植物在光照条件下发生光合作用

72. 择一的因果关系是指两个或者两个以上的行为人都实施了可能对他人造成损害的危险行为，并且已经造成了损害结果，但是无法确定其中谁是加害人。根据上述定义，下列存在择一的因果关系的是：

- A. 甲、乙两人在搬卸货物过程中因操作不当，造成货物损坏
- B. 甲在乙的饮水中下毒，乙喝下后在毒发前又因琐事与丙发生争吵，丙一怒之下用刀刺死了乙
- C. 甲、乙共同绑架了丙，甲负责向丙的家人索要赎金，乙为避免被丙认出，将丙残忍杀害
- D. 甲、乙、丙三人带着相同的猎枪和子弹外出狩猎，甲、乙看到一只猎物出现在丙附近，二人同时开枪，结果其中一枪打中了丙

73. 选民，是指根据法律规定，享有选举权和被选举权并被列入选民名单和持有选民证件的公民。以下可能是选民的是：

- A. 差 3 天满 18 周岁的小刘
- B. 在押故意杀人犯李某
- C. 在街边卖水果的王某
- D. 汪某因某原因未进行登记，不持有选民证件

74. 劳动输出，指生产力水平较低，生活条件较差的国家和地区，为了积累资金、开拓视野、吸收先进技术、增长见识和培养自己建设队伍的素质，把一部分剩余劳动力转向生产力水平较高，生活条件较富裕，劳动报酬较多的国家和地区从事合同制的工作和劳动服务的

一种形式。版权归作者所有。任何形式转载须联系作者获得授权。下列属于劳动输出的是：

- A. 某大学教授到边远地区大学兼职
- B. 甲县向乙县借调技术干部
- C. 四川、江西民工到广东找工作
- D. 甲厂倒闭，其工人大部分经培训后安置到邻近的乙厂工作

75. 起诉：是指公民、法人或其他组织认为自己的民事权益受到他人的侵犯或者与他人发生争议，以自己的名义，请求人民法院依法审理，确认民事权利义务关系，制裁对方的民事违法行为，保护自己的合法权益的一种诉讼行为。根据上述定义，下列情况属于起诉的一项是：

- A. 农民们向农会诉苦，要求农会镇压地主
- B. 王某自留地被村委会收回，告至法院
- C. 张某在村口破口大骂村干部贪污腐败
- D. 某化妆品公司为了改进产品质量，征求客户意见，有一个客户不客气地指出了某化妆品的缺陷，并要求公司给予赔偿

76. 公共政策：公共政策是以政府为主的公共机构，为确保社会朝着政治系统所确定、承诺的正确方向发展，通过广泛参与和连续的抉择，以及具体实施产生效果的途径，利用公共资源，达到解决社会公共问题，平衡、协调社会公众利益为目的的公共管理活动过程。下列不符合这一定义的是：

- A. 公共政策制定的主体是以政府为主的一系列公共机构
- B. 公共政策就是政府要少花钱多办事的各种方法和途径
- C. 公共政策的目的在于确保社会朝着政治系统所确定、承诺的正确方向发展
- D. 公共政策是一种公共管理活动过程

77. 行政机关是依照宪法或行政组织法的规定而设置的行使国家行政职能的国家机关。其主要特征是：行使国家行政职权；管理国家行政事务；行政机关在组织关系上实行领导—从属制；行政机关在决策体系上实行首长负责制；行政机关行使职能通常是主动的、经常的和不间断的。根据上述定义，下列属于行政机关的是：

- A. 最高人民法院
- B. 国务院
- C. 全国人民代表大会
- D. 中国人民政治协商会议

78. 前馈控制是以未来为导向的，它的目标是在偏差发生之前阻止其发生。下列属于前

馈控制的是：

- A. 管理者可以根据连续化的业务数据流更新预算
- B. 实际发生的费用与季度预算进行比较
- C. 银行要求在发放贷款前签订一系列的文件、备忘录并必须经过主管审批
- D. 监控系统可以实时跟踪每台机器的运行指标，以便管理者及时修正差错

79. 物证，是指能够证明案件真实情况的物质痕迹和物品。物证的特征是它的外形、质量、特性和所在的位置等，反映了某些案件事实，人们可以以此来证明案件的事实真相。根据以上定义，下列属于物证的是：

- A. 高速公路上发生一起交通事故，交通警察勘测现场时拍摄的现场照片
- B. 在审理一起恶性的杀人案件中，因目击证人担心遭到报复，不愿出庭作证，而提供的记录证言的录音带
- C. 某地警方在打击盗窃机动车的行动中追缴回来的被盗车辆
- D. 根据警方在盗窃现场提取的指纹，鉴定人员所做的指纹鉴定报告

80. 民法规定，一项允诺可以通过明示或默示方法作出。所谓明示是行为人直接将自主决定的意思表示于外的允诺方法，包括口头明示和书面明示。下列不属于明示范畴的是：

- A. 用户以通话形式申请提供服务
- B. 开车到收费停车场停车
- C. 用户到营业厅办理信用卡手续
- D. 授权朋友办理服务申请

三、类比推理。每道题先给出一组相关的词，要求你在备选答案中找出一组与之在逻辑关系上最为贴近、相似或匹配的词。

请开始答题：

81. 仁至：义尽

- A. 人仰：马翻
- B. 千方：百计
- C. 瞻前：顾后
- D. 琴棋：书画

82. 在下：阁下

- A. 恩师：高徒
- B. 寒舍：寒门
- C. 贱内：拙荆
- D. 犬子：令郎

83. 哭笑不得：啼笑皆非：尴尬

- A. 高山流水：桃花潭水：友谊  
B. 众擎易举：心照不宣：团结  
C. 寸草春晖：乌鸟私情：忠心  
D. 风声鹤唳：谈虎色变：脆弱
84. 布料：窗帘：裁剪  
A. 果实：种子：耕种  
B. 牛肉：肉丸：油炸  
C. 监狱：犯罪：逮捕  
D. 将军：战争：指挥
85. 高铁：轨道：出行  
A. 水稻：农田：丰收  
B. 河流：水坝：蓄水  
C. 钢笔：墨水：书写  
D. 面包：烤箱：品尝
86. 酒驾：事故：交警  
A. 炒作：舆情：记者  
B. 攀岩：运动：教练  
C. 吸烟：疾病：医生  
D. 档案：历史：专家
87. 浑浊：静置：清彻  
A. 清晨：中午：傍晚  
B. 坚定：信念：犹豫  
C. 热闹：活动：冷静  
D. 烦恼：解决：愉快
88. 玉石对于（ ）相当于（ ）对于冰雕  
A. 矿床 冰箱  
B. 翡翠 雕塑  
C. 印章 冰块  
D. 新疆 北方
89. 瑕疵对于（ ）相当于（ ）对于偏见  
A. 缺点 成见  
B. 优点 看法  
C. 消除 减小  
D. 美化 交流
90. 违法：犯罪  
A. 节能：环保  
B. 知书：达理  
C. 开机：上网  
D. 发展：质变

四、逻辑判断。每道题给出一段陈述，这段陈述被假设是正确的，不容置疑的。要求你根据这段陈述，选择一个答案。注意：正确的答案应与所给的陈述相符合，不需要任何附加说明即可以从陈述中直接推出。

请开始答题：

91. 最近科学家一项调查研究表明,在其他条件相同的情况下,茶农种植抗虫转基因茶树平均每个月喷洒农药1次,茶农种植普通茶树平均每个月喷洒农业4次。由于种植抗虫转基因茶树的茶农减少农药使用量,有助于减少农药对身体健康带来的危害,并且这种茶树的产茶量获得大幅度提升。据此,可以得出下列哪项判断是正确的?

- A. 茶农使用农药量减少,茶叶成本降低
- B. 抗虫转基因茶树具有较高的科技含量,发展前景广阔
- C. 种植抗虫转基因茶树减少了身体危害,收益明显上升,具有推广价值
- D. 抗虫转基因茶树购买成本高,制约了其发展前途

92. 在餐桌上有四个水果盒,在每个水果盒上小明都写了一个提示语,甲餐盒上写道:“所有餐盒中都有苹果”;乙餐盒上写道:“本餐盒有桔子”;丙餐盒上写道:“本餐盒没有香蕉”;丁餐盒上写道“有些餐盒没有苹果”。小明写的这四个提示语仅有一个提示语为真。请根据上面陈述,判断下列哪个选项为真?

- A. 丁餐盒有苹果
- B. 丙餐盒有香蕉
- C. 乙餐盒有桔子
- D. 甲餐盒没有苹果

93. 多数人认为,长期保持心情愉快有益于身体健康。但是,最近一项针对2万名60岁左右的男性进行10年跟踪研究表明,长期保持心情愉快与长期保持心情忧郁的被测试者在死亡率上并没有差异。据此可以得出结论:长期保持心情愉快与身体健康没有相关性。以下哪个选项若为真,最能驳斥上述研究结论?

- A. 与长期保持心情忧郁的被测试者相比,大多数长期保持心情愉快的被测试者在患病后更加积极主动地治疗
- B. 被测试的男性更喜欢社会交往,良好的社会交往有益于身体健康
- C. 长期保持心情忧郁的被测试者大多患有慢性疾病
- D. 长期保持心情愉快的被测试者极少数不关心自己的身体健康,患了致命性疾病并没有及早发现

94. 最近,某城市化工厂化学气体泄漏,空气受到较为严重的污染。该城市许多中学生家长联合呼吁当地教育主管部门应当在学校安装空气过滤器,防止损害学生身体健康。但这

一建议却遭到学校教师的反对，他们认为在学校安装空气过滤器并非良策。据此，下列哪项最能支持学校教师的观点？

- A. 当地市场空气过滤器质量差, 过滤效果不明显
- B. 安装空气过滤器产生的噪音干扰学生学习和休息
- C. 安装空气过滤器没有学生带过滤口罩效果好
- D. 空气过滤器将会导致变压器超负荷运转

95. 物候现象是指自然界和动植物等因受到不同环境影响而产生的周期性变化的现象，如二十四节气、鸟类迁徙、植物落叶等。这种现象主要受到地势高低, 经度、纬度不同及时间差异和古今差异等因素的影响。据此，下列反映物候现象受到纬度不同影响的诗句是：

- A. 北风卷地白草折，胡天八月即飞雪
- B. 人间四月芳菲尽，山寺桃花始盛开
- C. 月有阴晴圆缺，人有悲欢离合
- D. 燕子来时新社，梨花落后清明

96. 随着人们生活水平不断提高 现代人在饮食结构中蔬菜和水果占比大幅度降低。研究发现，蔬菜和水果中含有大量的维生素 C, 而维生素 C 是一种抗氧化剂，严重缺乏会导致坏血病。据此，有人认为，现代人更容易患坏血病是维生素 C 摄入量过少引起的。若下面哪项为真，最能驳斥上述推断？

- A. 坏血病患者摄入维生素 C 剂量与其他人无异
- B. 坏血病患者多吃维生素 C 就可以防止此病发生
- C. 含维生素 C 的食品比以前增多
- D. 口服营养含片是添加了维生素 C 的合成品

97. A 市近年来人才外流数量不断增加，然而自从许多外地大学迁移到 A 市以后，该市大学生就业率出现了严重下降。据此，有专家认为许多大学迁移到 A 市导致其就业率降低。据此，下面哪个选项为真，最能加强上述结论？

- A. A 市在近 3 年内企业数量增加了 3 倍
- B. A 市周围城市人才外流数量依然不断增加
- C. A 市在许多外地大学迁移之前就业率并不高
- D. A 市政府已经实施鼓励大学生自主创业的政策

98 理论认为，反物质是正常物质的反状态，当正反物质相遇时，双方就会相互湮灭抵消，发生爆炸并产生巨大能量。有人认为，反物质是存在的，因为到目前为止没有任何证据证明反物质是不存在的。以下哪项与题干中的论证方式相同？



A. 圣女贞德的审问者们曾对她说,我们没有证据证明上帝与你有过对话,你可能是胡编乱造,也可能精神失常

B. 动物进化论是正确的,例如始祖鸟就是陆地生物向鸟类进化过程中的一类生物

C. 既然不能证明平行世界不存在,那么平行世界就是存在的

D. 长白山天池有怪兽,因为有人看见过怪兽在天池内活动的踪迹

99. 张三、李四、王五三人分别参加在甲、乙、丙地举行的羽毛球、游泳、划船三项比赛,比赛中他们都得了冠军。已知张三没到丙地去划船,王五没参加在乙举行的游泳比赛,划船冠军不是王五。请问,游泳冠军是:

A. 张三

B. 李四

C. 王五

D. 未知数

100. 在某图书馆中,涉及民国时期的历史书均只存放于第二层的专业书库中,外文类的典藏书籍均只存放于第三层的珍本阅览室中。小林周末到该图书馆借了一本外文类历史书。由此可以推出小林借的书:

A. 是珍本书

B. 不是珍本书

C. 是涉及民国时期的典藏书籍

D. 不是涉及民国时期的典藏书籍

※※※第四部分结束,请继续做第五部分!※※※

## 第五部分 资料分析

(共 20 题,参考时限 15 分钟)

### 一、根据以下资料,回答 101-115 题。

据对全国 31 个省(自治区、直辖市)16 万户居民家庭的抽样调查,按现行国家农村贫困标准测算,2017 年末,全国农村贫困人口 3046 万人,比上年末减少 1289 万人;贫困发生率 3.1%,比上年末下降 1.4 个百分点。分三大区域看,2017 年东、中、西部地区农村贫困人口全面减少。东部地区农村贫困人口 300 万人,比上年减少 190 万人;中部地区农村贫困人口 1112 万人,比上年减少 482 万人;西部地区农村贫困人口 1634 万人,比上年减少 617 万人。

101. 2016 年来，我国农村贫困人口约为（ ）万人。

- A. 8927  
B. 6008  
C. 4335  
D. 1234

102. 贫困发生率指的是低于贫困线的人口占全部人口的比例。2016 年来，贫困发生率为（ ）。

- A. 4.5%  
B. 3.1%  
C. 2.8%  
D. 1.3%

103. 2017 年末，西部地区农村贫困人口为（ ）万人。

- A. 1112  
B. 1267  
C. 1328  
D. 1634

104. 2017 年末，全国农村贫困人口比上年减少：

- A. 11.2%  
B. 15.8%  
C. 20.2%  
D. 29.7%

105. 根据给定材料，下列说法正确的是：

- A. 2016 年，我国农村贫困人口少于 3 千万。  
B. 2017 年东、中、西部地区农村贫困人口的比例约为 1:8:9。  
C. 2017 年西部地区农村贫困人口比上年减少 27.4%。  
D. 2017 年东部地区农村贫困人口占全国农村贫困人口的比例超过 20%。

## 二、根据以下资料，回答 106-110 题。

2017 年 9 省市污染源调查对象数量

地区	工业污染源	农业污染源	生活污染源	集中式污染治理设施	合计
北京市	18475	14845	37386	156	70862
天津	16920	21394	12908	38	51260
河北	79942	213888	52591	183	346604
上海	48755	13776	37417	113	100061
江苏	185371	256900	78269	438	520978
浙江	313445	101759	81449	345	496998

广东	268968	189749	143056	418	602191
海南	2219	16239	9160	28	27646
山东	95252	181224	78656	341	355473
合计	1029347	1009774	530892	2060	2572073





三、根据以下资料，回答 111-115 题。



图：某国 2014 年 6-12 月出口总额及增速统计

111. 2014 年 7 月出口总额环比：

- A. 增加 13.9%                      B. 增加 9.7%  
C. 减少 13.9%                      D. 减少 9.7%

112. 2014 年第四季度出口总额约为（ ）亿美元。

- A. 2477                                  B. 4226  
C. 6459                                  D. 8647

113. 2014 年下半年，出口总额环比上升的月份有（ ）个。

- A. 1                                        B. 2  
C. 3                                        D. 4

114. 以下月份中，出口总额和同比增速均高于上月的月份是：

- A. 8 月                                    B. 9 月  
C. 10 月                                  D. 11 月

115. 下列论述与资料相符的是：

- A. 2014 年 11 月出口总额同比减少 7.9%  
B. 2014 年 12 月出口总额环比减少 9.7%  
C. 2014 年下半年出口总额同比增速最快的是 7 月

---

D. 2014 年下半年月均出口额超过两千亿美元





#### 四、根据以下资料，回答 116-120 题。

居民消费支出是指居民用于满足家庭日常生活消费的全部支出。2018 年全国居民消费支出加快增长，食品消费支出比重（恩格尔系数）进一步降低，服务性消费支出占比提升。2018 年，全国居民人均服务性消费支出 8781 元，占居民消费支出的比重为 44.2%，比上年提升 1.6 个百分点。主要是随着收入水平不断提高，城乡居民消费观念提升，以及各地大力推进城乡居民医保并轨和异地就医直接结算等惠民措施，带动在外饮食、家庭服务、医疗服务等服务性消费实现较快增长。从居民服务性消费结构看，全国居民人均饮食服务支出增长 21.7%，家庭服务支出增长 32.1%，医疗服务支出增长 20.5%，包含旅馆住宿等在内的其他服务支出增长 14.9%。

116. 2018 年全国居民人均消费支出接近（ ）万元。

- A. 1
- B. 2
- C. 3
- D. 4

117. 恩格尔系数不能反映：

- A. 贫困程度
- B. 生活水平
- C. 就业意愿
- D. 消费结构

118. 下列选项中，不属于服务性消费支出的是：

- A. 名牌服装
- B. 医疗保健
- C. 旅馆住宿
- D. 家庭保洁

119. 从居民服务性消费结构看，支出增长最多的是：

- A. 饮食服务
- B. 家庭服务
- C. 医疗服务
- D. 旅馆住宿服务

120. 以下选项中，不利于消费支出增长的是：

- A. 居民收入水平提高
- B. 居民消费需求多元
- C. 居民消费观念变迁
- D. 服务有效供给不足

第一部分 数量关系

1. B 1
2. A 1:1
3. C 51
4. B 15
5. B 13 小时 45 分
6. D AB
7. B 5
8. B 15
9. 无解
10. A

第二部分 言语理解表达

11. 【答案】C 矛盾
12. 【答案】B 多元化 针对性
13. 【答案】D 必不可少 机会
14. 【答案】B 疏离 前所未有
15. 【答案】D 优中选优 浓缩
16. 【答案】A 硕果仅存 长盛不衰
17. 【答案】B 迎刃而解 鞭长莫及
18. 【答案】C 加强 增强 强化
19. 【答案】C 情态 误解
20. 【答案】A 瓶颈 销售 理由
21. 【答案】D 与日俱增 接受 如梦初醒
22. 【答案】D 根深蒂固 雷打不动
23. 【答案】D 和而不同 大势所趋

24. 【答案】B 抬升 挟带
25. 【答案】C 嬗变 磋商
26. 【答案】B 为师者必须以德为先
27. 【答案】C 多样的表达折射出多重情感
28. 【答案】D 做好“减法”才能解决政出多门、推诿扯皮的顽疾
29. 【答案】A 良好的生态才能让创新者脱颖而出
30. 【答案】B 热带雨林对生态的影响是最为关键的
31. 【答案】D 怎样才能让人们更好地体验传统节日背后的传统文化
32. 【答案】B 发展需要进一步开放
33. 【答案】B 网络文学要与时代同行
34. 【答案】D 学会左右逢源
35. 【答案】B 互联网给未成年人带来了方便，也带来了可能损害健康的伤害
36. 【答案】A 真作为才能赢得真满意
37. 【答案】B 让救助事业行稳致远
38. 【答案】A 农民是乡村振兴的实践主体
39. 【答案】C 家校社合作是未来教育的重要模式
40. 【答案】A/D（争议） A. 许多创意园区名不副实 D. 创意园区的准入门槛应该提高
41. 【答案】C 只有积极进取，农业才能再上新台阶
42. 【答案】D 治理污染从污染源切入
43. 【答案】C 防范处置金融风险的举措
44. 【答案】D 经济活动中的伦理道德是必然存在的
45. 【答案】A 命运共同体为人类文明提供了新的发展思路

### 第三部分 常识判断

（共 20 题，参考时间 15 分钟）

- 46 .C 6月
- 47 .C 甲醛可以用作药品的防腐剂
- 48 .D 淀粉含量是早、中、晚品种的分类标准
- 49.A 德国

- 
- 50. B 《平凡的世界》是史铁生的作品
  - 51. D 1945 1946年6月
  - 52. C 牧野 诸侯
  - 53. C 《大夏》《大武》
  - 54. B 20 492
  - 55. D 汉代刘向 国别体
  - 56. A 消化酶 降低血糖
  - 57. B 宁波
  - 58. C 静脉 免疫系统
  - 59. B 伊犁盆地
  - 60. A 1969
  - 61. B 中国
  - 62. C 开普勒
  - 63. B 煨——将各种食物混合加水煮
  - 64. C 北美独立战争——法国热月政变——日本明治维新——英国宪章运动
  - 65. D 小篆

#### 第四部分 判断推理

- 66. 【答案】B 圆圈在内下。
- 67. 【答案】A 外框为正方形，内部为方形。
- 68. 【答案】B 外框为方形，内部为斜线。
- 69. 【答案】C 1840
- 70. 【答案】A 三角形
- 71. 【答案】C 通电情况下
- 72. 【答案】D 甲、乙、丙三人带着相同的猎枪
- 73. 【答案】C 在街边卖
- 74. 【答案】C 四川
- 75. 【答案】B 王某自留地
- 76. 【答案】D 公共政策就是政府要

77. 【答案】B 国务院
78. 【答案】D 银行要求
79. 【答案】C 某地警方在打击
80. 【答案】B 开车到收费停车
81. 【答案】A 人仰马翻
82. 【答案】D 犬子令郎
83. 【答案】A 高山流水
84. 【答案】B 牛肉
85. 【答案】C 钢笔
86. 【答案】C 吸烟
87. 【答案】D 烦恼
88. 【答案】B 翡翠
89. 【答案】A 缺点
90. 【答案】C 开机
91. 【答案】C 种植抗虫转基因
92. 【答案】B 丙餐盒
93. 【答案】C 长期保持心情忧郁的被测试者大多患有慢性疾病
94. 【答案】B 噪音干扰学生学习
95. 【答案】A 北风卷地白草折
96. 【答案】A 剂量和其他人无差异
97. 【答案】A 近3年内企业数量增加了3倍
98. 【答案】C 既然不能证明平行世界不存在
99. 【答案】A 张三
100. 【答案】D 不是涉及民国时期的

#### 第五部分 资料分析

101. C 4335
102. A 4.5%
103. D 1634
104. D 29.7%
105. C 2017年西部地区农村贫困人口比上年减少27.4%
106. D 257.2

- 
107. B 浙江--广东--江苏
108. A 85.5%
109. C 3:1:4
110. D 关于集中式污染治理设施，北京调查对象比天津多 118 个
111. A 增加 13.9%
112. C 6459
113. D 4
114. B 9 月
115. D 2014 年下半年月均出口额超过两千亿美元
116. B 2
117. C 就业意愿
118. A 名牌服装
119. B 家庭服务支出
120. D 服务有效供给不足

